



小数の表し方3

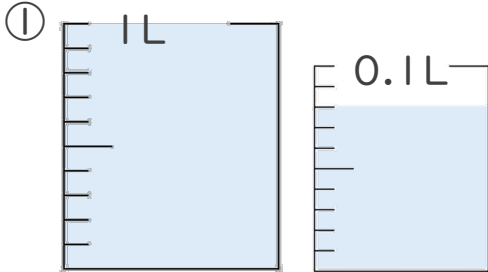


◎ 0.01を何こ？

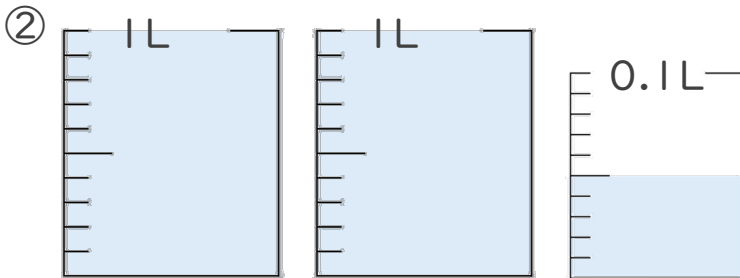
日にち： 月 日

名まえ _____

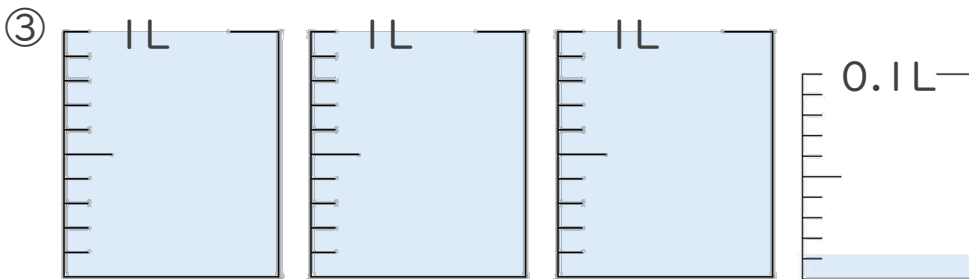
1. 1L入る水さしと、0.1L入る水さしがあります。
水さしに入っている水のかさを、L単位で表しましょう。



答え 1.08L



答え _____ L



答え _____ L

2. 次の問いに答えましょう。

① 0.08 Lは0.01Lを何こ集めたかさですか？

答え _____

② 0.15 Lは0.01Lを何こ集めたかさですか？

答え _____





小数の表し方3

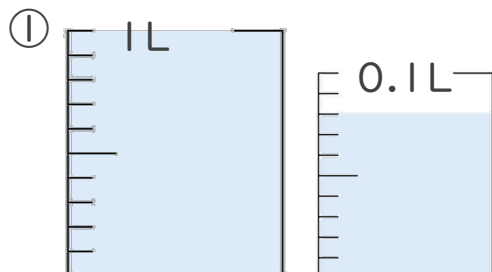


◎ 0.01を何こ？

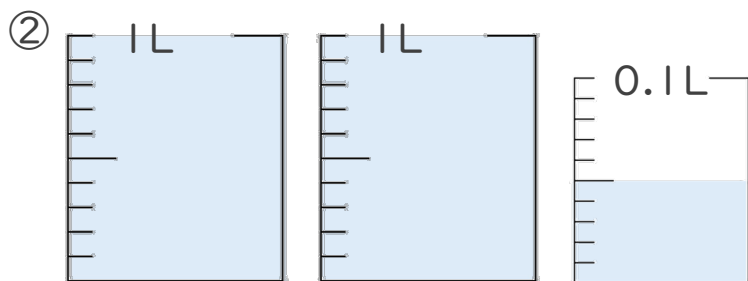
日にち： 月 日

名まえ _____

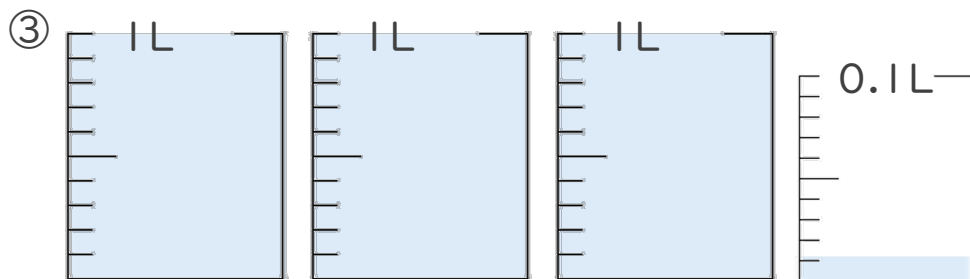
1. 1L入る水さしと、0.1L入る水さしがあります。
水さしに入っている水のかさを、L単位で表しましょう。



答え 1.08L



答え 2.05L



答え 3.01L

2. 次の問いに答えましょう。

① 0.08 Lは0.01Lを何こ集めたかさですか？

答え 8こ

② 0.15 Lは0.01Lを何こ集めたかさですか？

答え 15こ

