



小数のしくみ7

© 6より0.03小さい数



日にち： 月 日

名まえ _____

1. 下の数直線で、ア～エの数を表すめもりに ↑ をかきましょう。

また、↑ の下にア～エの記号とその数をかきましょう。

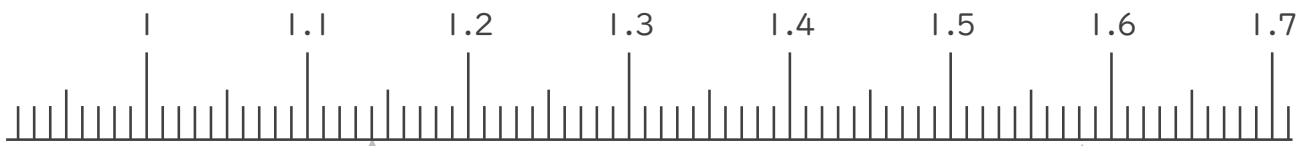
(うすい字はなぞりましょう。)

ア 1.1 より 0.04 大きい数

イ 1.6 より 0.02 小さい数

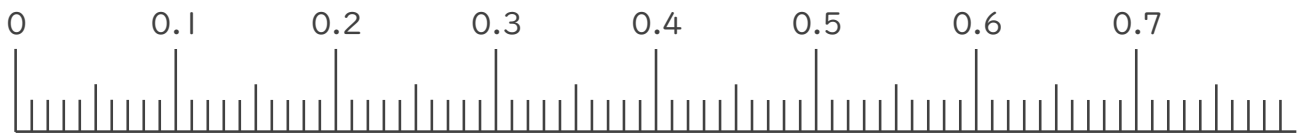
ウ 0.1 より 0.05 大きい数

エ 0.6 より 0.04 小さい数



ア 1.14

イ _____



2. 次の数はいくつですか。(うすい字はなぞりましょう。)

① 3と0.85をあわせた数

答え 3.85

② 1を6こ、0.1を4こ、0.01を8こあわせた数

答え 6.48

③ 1を2こ、0.1を0こ、0.01を9こあわせた数

答え _____





小数のしくみ7

◎ 6より0.03小さい数



日にち： 月 日

名まえ

1. 下の数直線で、ア～エの数を表すめもりに ↑ をかきましょう。

また、↑ の下にア～エの記号とその数をかきましょう。

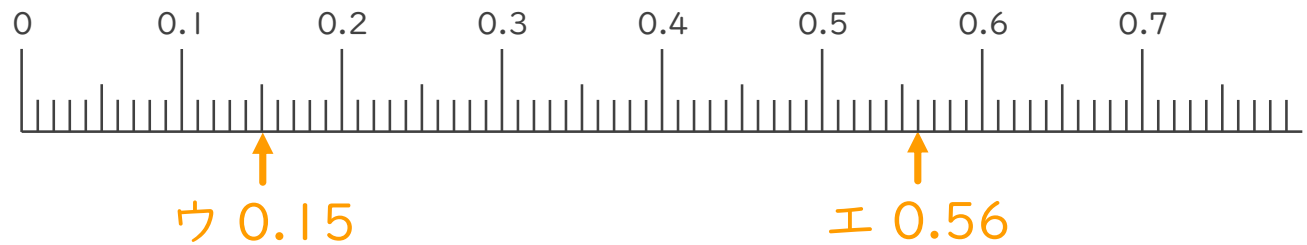
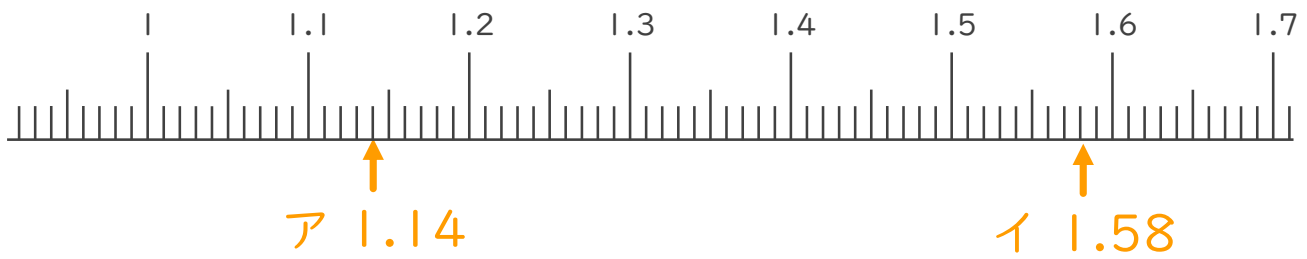
(うすい字はなぞりましょう。)

ア 1.1 より 0.04 大きい数

イ 1.6 より 0.02 小さい数

ウ 0.1 より 0.05 大きい数

エ 0.6 より 0.04 小さい数



2. 次の数はいくつですか。(うすい字はなぞりましょう。)

① 3と0.85をあわせた数

答え 3.85

② 1を6こ、0.1を4こ、0.01を8こあわせた数

答え 6.48

③ 1を2こ、0.1を0こ、0.01を9こあわせた数

答え 2.09

