



# 角の大きさ 7

● 180° から  
引いて求める角度

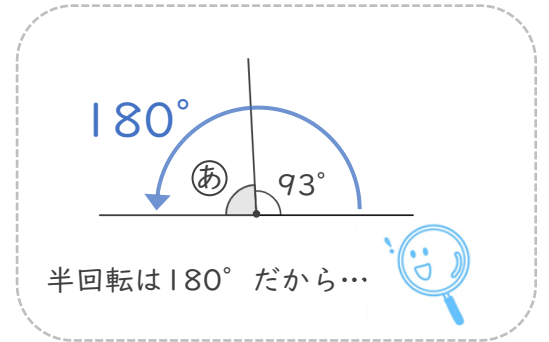
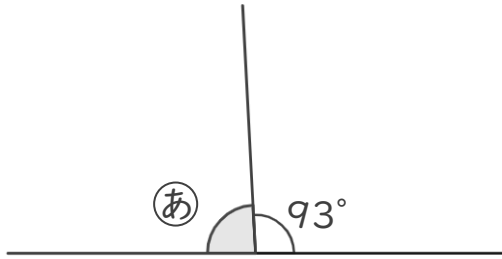


日にち：            月            日

名まえ \_\_\_\_\_

・ ①の角度を、計算で求めましょう。（うすい字はなぞりましょう。）

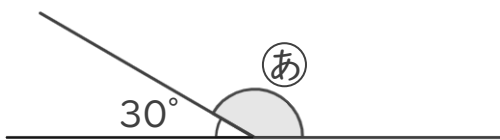
①



式：  $180^\circ - 93^\circ = 87^\circ$

答え（  $87^\circ$  ）

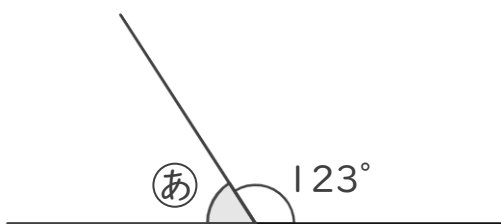
②



式：

答え（                      ）

③



式：

答え（                      ）





## 角の大きさ 7

● 180° から  
引いて求める角度

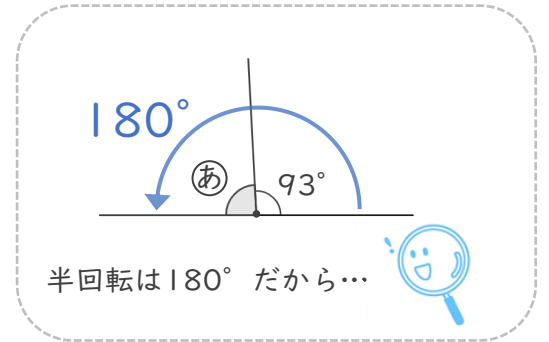
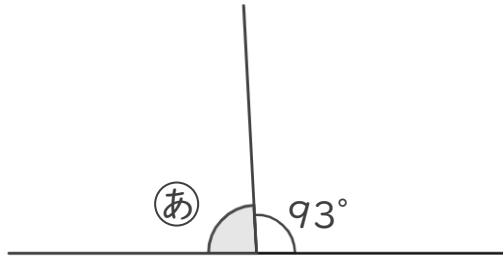


日にち：            月            日

名まえ \_\_\_\_\_

- ・ ①の角度を、計算で求めましょう。（うすい字はなぞりましょう。）

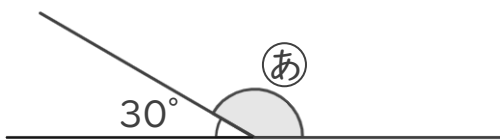
①



$$\text{式： } 180^\circ - 93^\circ = 87^\circ$$

答え（         $87^\circ$         ）

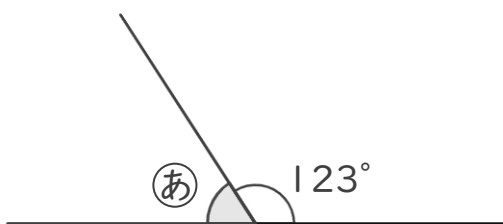
②



$$\text{式： } 180^\circ - 30^\circ = 150^\circ$$

答え（         $150^\circ$         ）

③



$$\text{式： } 180^\circ - 123^\circ = 57^\circ$$

答え（         $57^\circ$         ）

