



垂直, 平行と  
四角形 2

2直線と垂直



日にち： 月 日

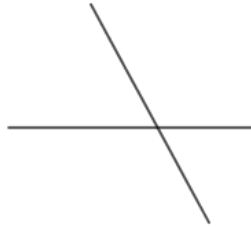
名まえ \_\_\_\_\_

・ 次の図で、2本の直線が垂直であるものを㉠～㉥の中から全て選びましょう。

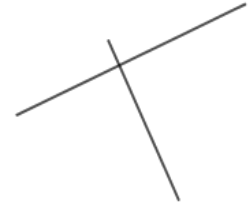
㉠



㉡



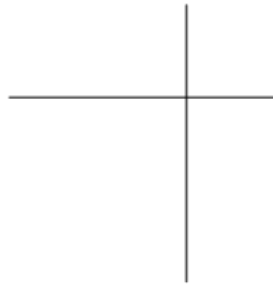
㉢



㉣



㉤




三角定規の直角の部分当ててみよう！

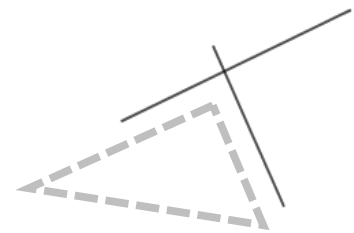
㉠



㉡



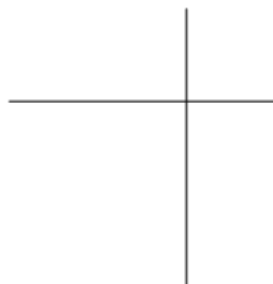
㉢



㉣



㉤



答え： \_\_\_\_\_





# 垂直, 平行と 四角形 2

2直線と垂直

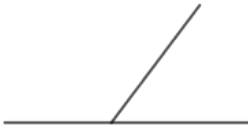


日にち：            月            日

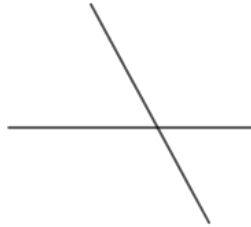
名まえ \_\_\_\_\_

・ 次の図で、2本の直線が垂直であるものを㉠～㉥の中から全て  
選びましょう。

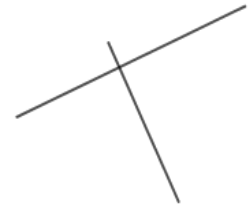
㉠



㉡



㉢



㉣



㉤

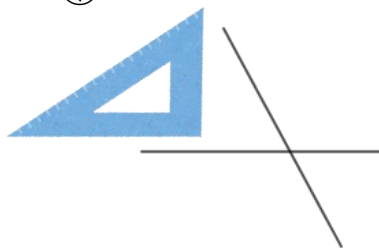


三角定規の直角の部分当ててみよう！

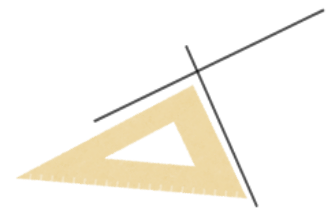
㉠



㉡



㉢



㉣



㉤



答え：

㉢ , ㉤

