



垂直, 平行と 四角形 2

2直線と垂直



日にち： 月 日

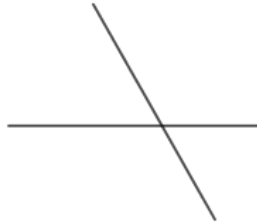
名まえ _____

次の図で、2本の直線が垂直であるものを㉠～㉥の中から全て選びましょう。(うすい字はなぞりましょう。)

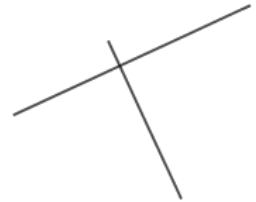
㉠



㉡



㉢



㉣

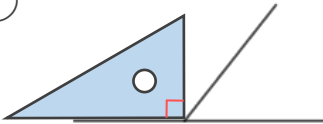


㉤

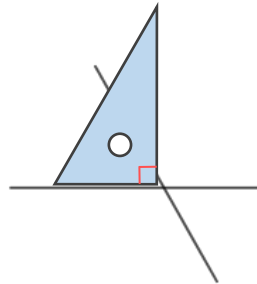


三角じょうぎの直角の部分をあててみよう!

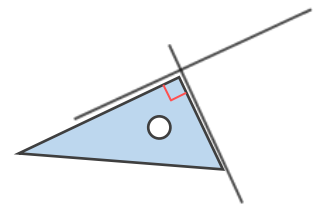
㉠



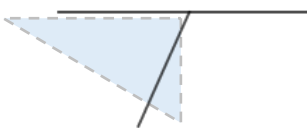
㉡



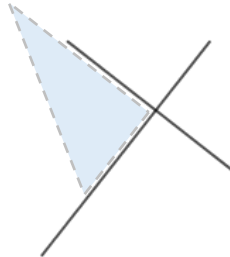
㉢



㉣



㉤



答え： ㉢,



垂直, 平行と 四角形2

2直線と垂直

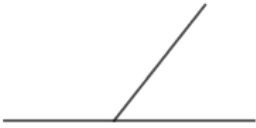


日にち： 月 日

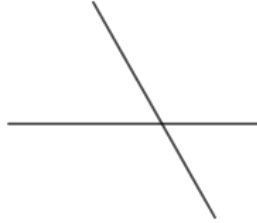
名まえ _____

次の図で、2本の直線が垂直であるものを㉠～㉥の中から全て選びましょう。(うすい字はなぞりましょう。)

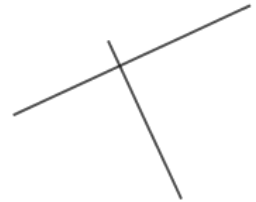
㉠



㉡



㉢



㉣

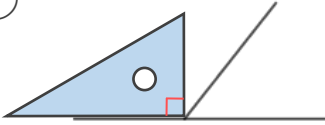


㉤

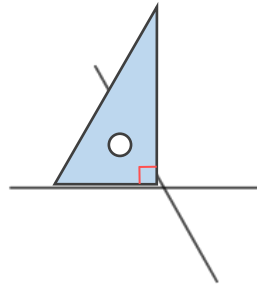


三角じょうぎの直角の部分をあててみよう！

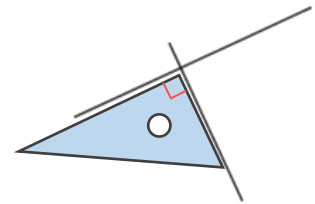
㉠



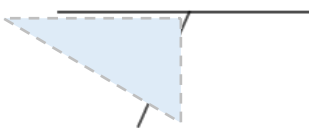
㉡



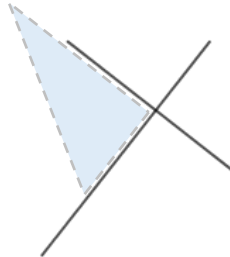
㉢



㉣



㉤



答え： ㉢, ㉤

