



# 小数の表し方 6

◎ cmをmで表す

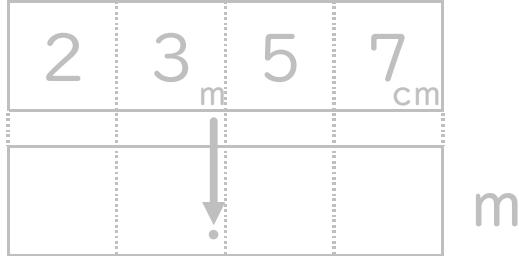


日にち：      月      日

名まえ \_\_\_\_\_

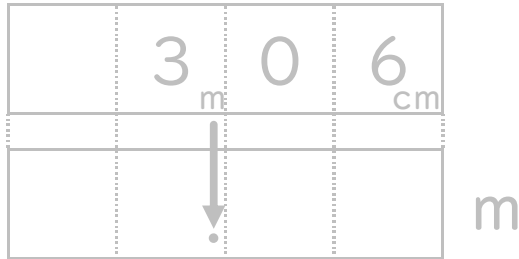
1. 次の長さを、小数を使ってmで表しましょう。

① 23m57cm



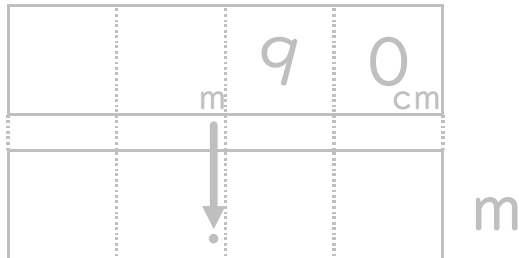
答え \_\_\_\_\_

② 3m6cm



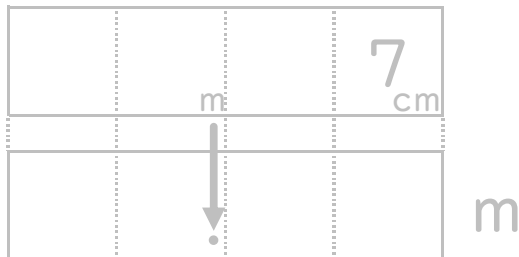
答え \_\_\_\_\_

③ 90cm




答え \_\_\_\_\_

④ 7cm



答え \_\_\_\_\_





# 小数の表し方 6

◎ cmをmで表す

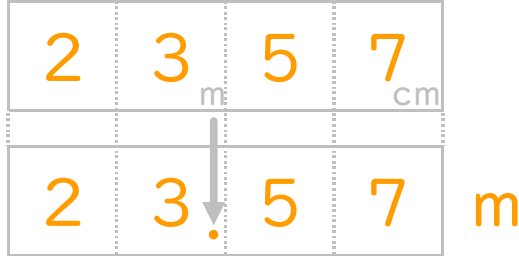


日にち： 月 日

名まえ \_\_\_\_\_

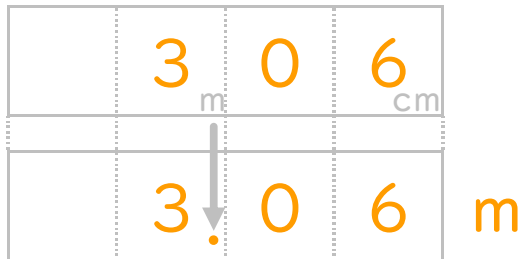
1. 次の長さを、小数を使ってmで表しましょう。

① 23m57cm



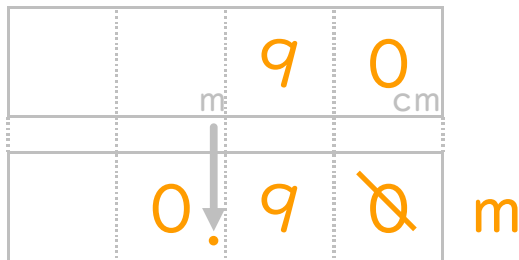
答え 23.57m

② 3m6cm



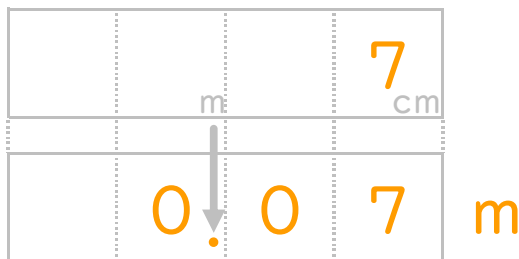
答え 3.06m

③ 90cm



答え 0.9m

④ 7cm



答え 0.07m

