



小数の表し方 6

◎ cmをmで表す

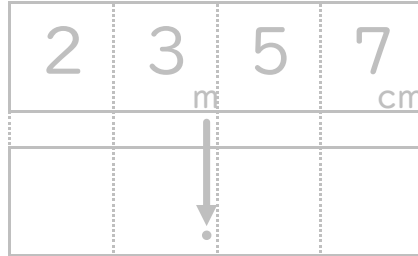


日にち： 月 日

名まえ _____

・ 次の長さを、小数を使ってmで表しましょう。(うすい字はなぞりましょう。)

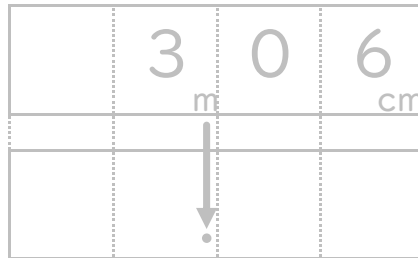
① 23m57cm



m

答え _____

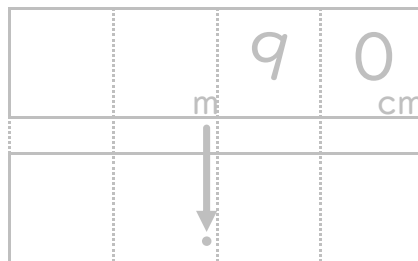
② 3m6cm



m

答え _____

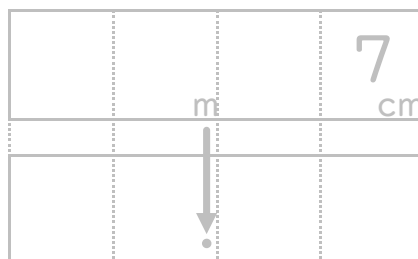
③ 90cm



m

答え _____

④ 7cm



m

答え _____





小数の表し方 6

◎ cmをmで表す

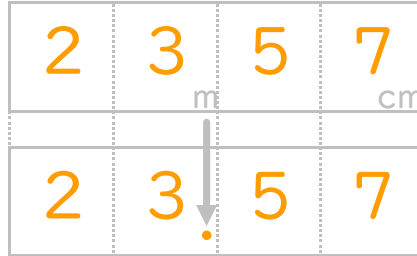


日にち： 月 日

名まえ

・ 次の長さを、小数を使ってmで表しましょう。(うすい字はなぞりましょう。)

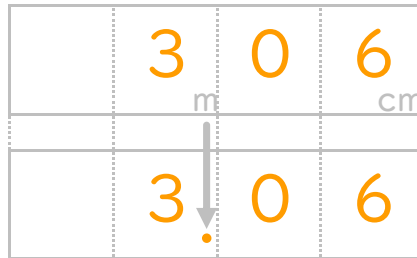
① 23m57cm



m

答え 23.57m

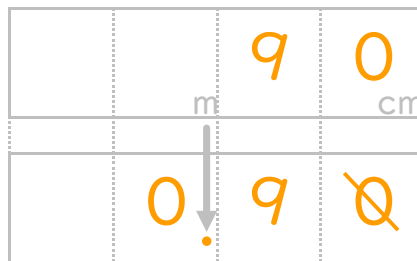
② 3m6cm



m

答え 3.06m

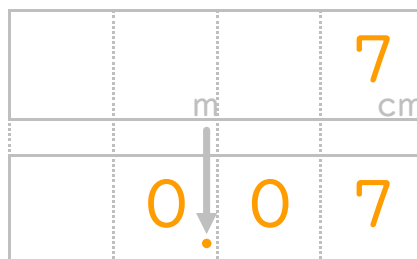
③ 90cm



m

答え 0.9m

④ 7cm



m

答え 0.07m

