



がい数の 使い方と表し方！

● がい数とは



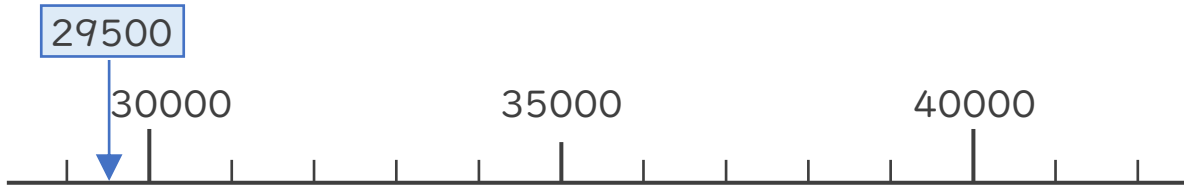
日にち： 月 日

名まえ _____

- ・ 3つの市の人口を表にまとめました。次の問いに答えましょう。

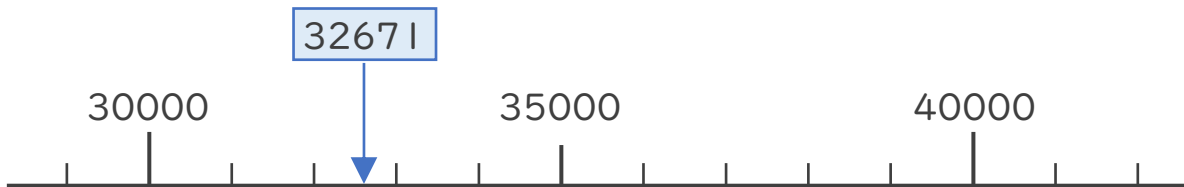
A市	29500人
B市	32671人
C市	38609人

- ① A市の人口は約何万人といえますか。数直線を見て答えましょう。



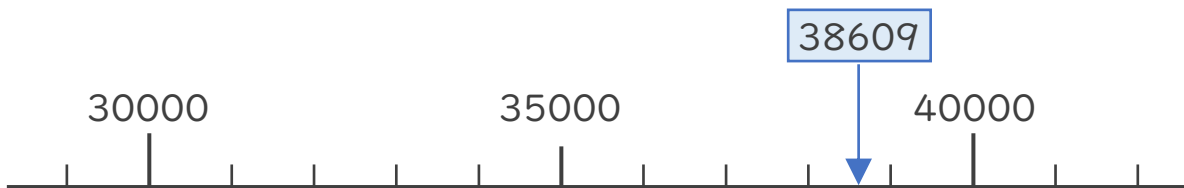
答え () 人

- ② B市の人口は約何万人といえますか。数直線を見て答えましょう。



答え ()

- ③ C市の人口は約何万人といえますか。数直線を見て答えましょう。



答え ()





がい数の 使い方と表し方！

● がい数とは



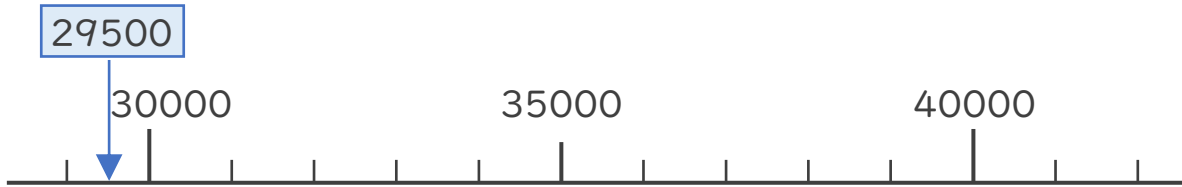
日にち： 月 日

名まえ _____

- ・ 3つの市の人口を表にまとめました。次の問いに答えましょう。

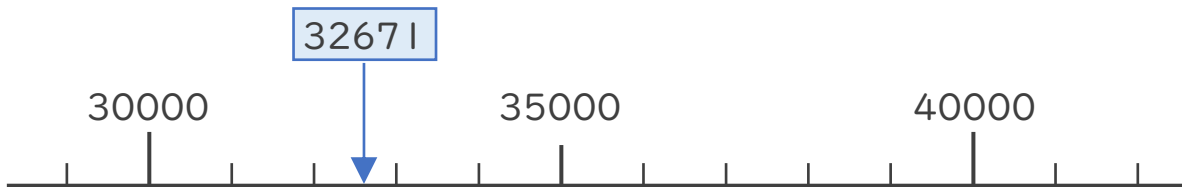
A市	29500人
B市	32671人
C市	38609人

- ① A市の人口は約何万人といえますか。数直線を見て答えましょう。



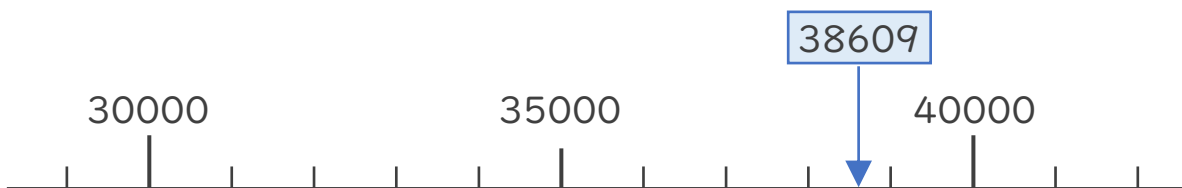
答え (**約3万** 人)
(約30000人)

- ② B市の人口は約何万人といえますか。数直線を見て答えましょう。



答え (**約3万人**)
(約30000人)

- ③ C市の人口は約何万人といえますか。数直線を見て答えましょう。



答え (**約4万人**)
(約40000人)

