



計算のきまり 17

● セットの代金と
ばらの代金





日にち： 月 日

名まえ _____

- ・ さらさんとみくさんは、水族館でおみやげのシールを買います。
さらさんは、ばらで7まい買います。
みくさんは、12まいセット1つと、ばらで3まい買います。



 シールのねだん表 

- ・ 1まい 30円
- ・ 12まいセット 350円

① さらさんの代金は何円ですか。

30円のシールを7まい買うから…

式：



答え $\left(\quad \quad \right)$

② みくさんの代金は何円ですか。1つの式に表して求めましょう。

式：

答え $\left(\quad \quad \right)$





計算のきまり 17

● セットの代金と
ばらの代金





日にち： 月 日

名まえ _____

- ・ さらさんとみくさんは、水族館でおみやげのシールを買います。
さらさんは、ばらで7まい買います。
みくさんは、12まいセット1つと、ばらで3まい買います。



 シールのねだん表 

- ・ 1まい 30円
- ・ 12まいセット 350円

① さらさんの代金は何円ですか。

30円のシールを7まい買うから…

式： $30 \times 7 = 210$



答え $\left(210 \text{円} \right)$

② みくさんの代金は何円ですか。1つの式に表して求めましょう。

式： $350 + 30 \times 3 = 350 + 90$
 $= 440$

答え $\left(440 \text{円} \right)$

