



# 面積の はかり方と表し方 2

◎ マス目の数で広さくらべ




日にち：            月            日

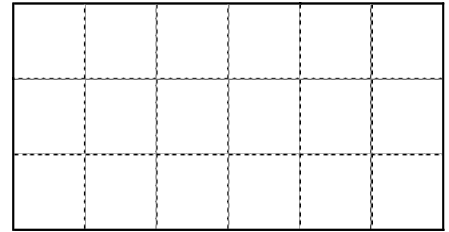
名まえ \_\_\_\_\_

・ 次の図形は1マスが1cm<sup>2</sup>です。次の問いに答えましょう。  
(うすい字はなぞりましょう。)

ア



イ



① 図形はそれぞれ何マスですか。

ア：

マス

イ：

② 図形はそれぞれ何cm<sup>2</sup>ですか。

1マスが1cm<sup>2</sup>なので、面積はマスの数！

ア：

cm<sup>2</sup>

イ：

③ どちらが広いでしょう。

答え： \_\_\_\_\_



# 面積の はかり方と表し方 2

◎ マス目の数で広さくらべ




日にち：            月            日

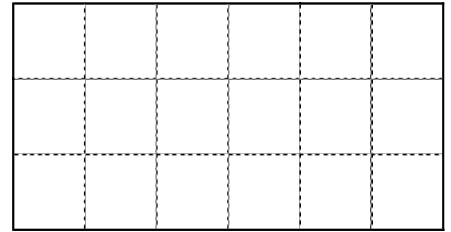
名まえ \_\_\_\_\_

・ 次の図形は1マスが1cm<sup>2</sup>です。次の問いに答えましょう。  
(うすい字はなぞりましょう。)

ア



イ



① 図形はそれぞれ何マスですか。

ア： 20 マス    イ： 18 マス

② 図形はそれぞれ何cm<sup>2</sup>ですか。

1マスが1cm<sup>2</sup>なので、面積はマスの数！

ア： 20 cm<sup>2</sup>    イ： 18 cm<sup>2</sup>

③ どちらが広いでしょう。

答え：

