



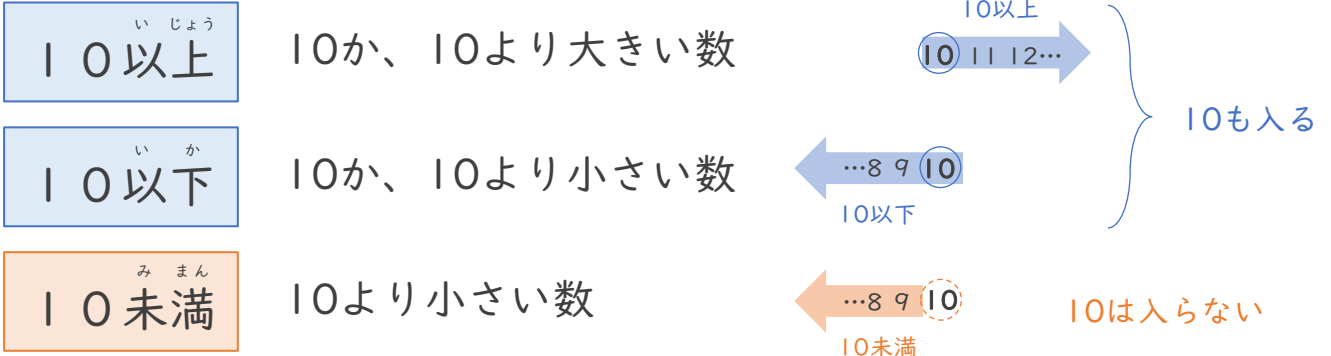
がい数の  
使い方と表し方 12

● 以上・以下・未満と  
四捨五入のはんい



日にち： 月 日

名まえ



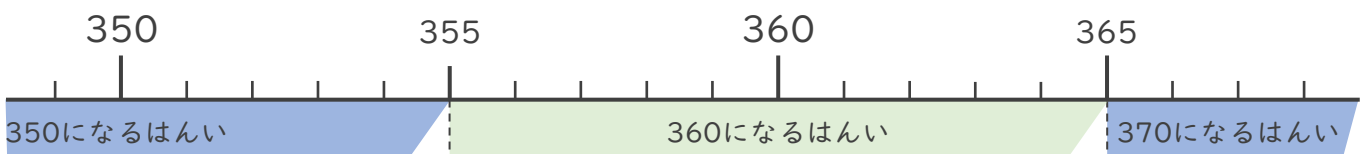
1 次のはんいにあてはまる整数を、下の  からえらんですべて書きましょう。

- ① 9以上12以下 (  )
- ② 7以上10未満 (  )

6, 7, 8, 9, 10, 11, 12, 13

2 一の位で四捨五入して360になる整数のはんいを考えます。  にあてはまる数を書きましょう。

以上  以下の整数 または、  
 以上  未満の整数



355から364までの整数  
が入ればいいんだね





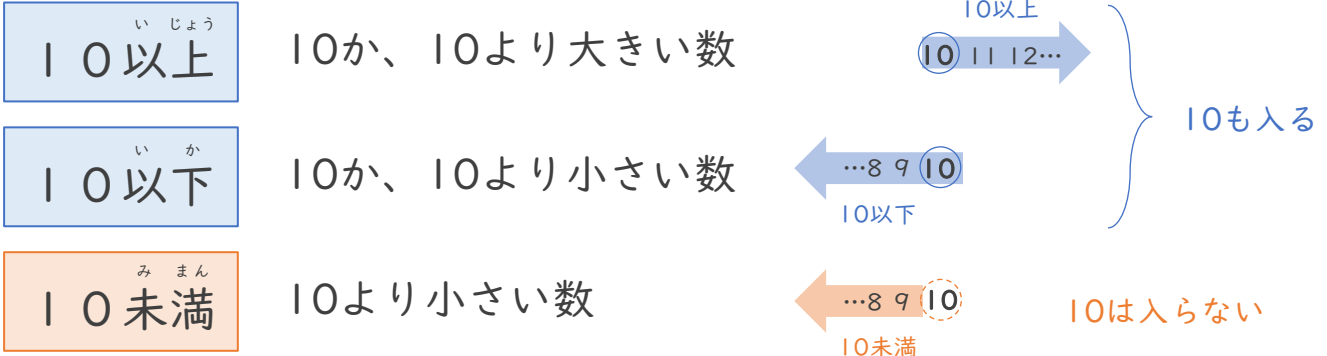
# がい数の 使い方と表し方 12

● 以上・以下・未満と  
四捨五入のはんい



日にち：            月            日

名まえ \_\_\_\_\_



1 次のはんいにあてはまる整数を、下の  からえらんですべて書きましょう。

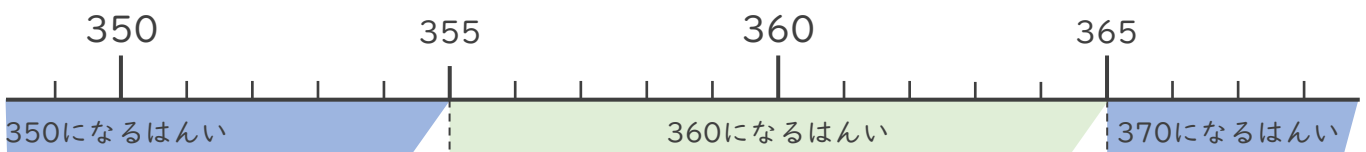
- ① 9以上12以下      (      9, 10, 11, 12      )
- ② 7以上10未満      (      7, 8, 9      )

6, 7, 8, 9, 10, 11, 12, 13

2 一の位で四捨五入して360になる整数のはんいを考えます。  にあてはまる数を書きましょう。

355 以上 364 以下の整数 または、

355 以上 365 未満 の整数



355から364までの整数  
が入ればいいんだね

