



分数 9

◎ 分数どうしのたし算・ひき算

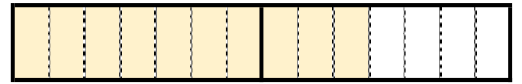
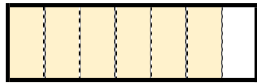
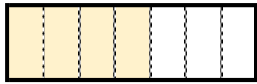
3

日にち：            月            日

名まえ \_\_\_\_\_

- 1  $\frac{4}{7}$  mと  $\frac{6}{7}$  mのリボンがあります。  
あわせると、何mになるでしょうか。

- ①  $\frac{4}{7}$ ,  $\frac{6}{7}$  は、それぞれ  $\frac{1}{7}$  の何こ分ですか。



$\frac{1}{7}$  の  こ分

$\frac{1}{7}$  の  こ分

$\frac{1}{7}$  の  こ分

②  $\frac{4}{7} + \frac{6}{7} =$

答え： \_\_\_\_\_

- 2 次の計算をしましょう。(うすい字はなぞりましょう。)

①  $\frac{6}{7} + \frac{3}{7} = \frac{9}{7}$

②  $\frac{2}{9} + \frac{5}{9} =$

③  $\frac{9}{8} - \frac{4}{8} = \frac{5}{8}$

④  $\frac{6}{2} - \frac{1}{2} =$





分数 9

◎ 分数どうしのたし算・ひき算

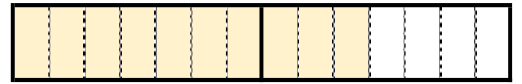
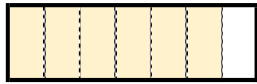
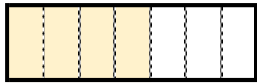
3

日にち：            月            日

名まえ \_\_\_\_\_

1  $\frac{4}{7}$  mと  $\frac{6}{7}$  mのリボンがあります。  
あわせると、何mになるでしょうか。

①  $\frac{4}{7}$  ,  $\frac{6}{7}$  は、それぞれ  $\frac{1}{7}$  の何こ分ですか。



$\frac{1}{7}$  の **4** こ分

$\frac{1}{7}$  の **6** こ分

$\frac{1}{7}$  の **10** こ分

②  $\frac{4}{7} + \frac{6}{7} = \frac{10}{7}$       答え：  $\frac{10}{7}$  m

2 次の計算をしましょう。(うすい字はなぞりましょう。)

①  $\frac{6}{7} + \frac{3}{7} = \frac{9}{7}$

②  $\frac{2}{9} + \frac{5}{9} = \frac{7}{9}$

③  $\frac{9}{8} - \frac{4}{8} = \frac{5}{8}$

④  $\frac{6}{2} - \frac{1}{2} = \frac{5}{2}$

