



分数 8

分母で大きさをくらべ

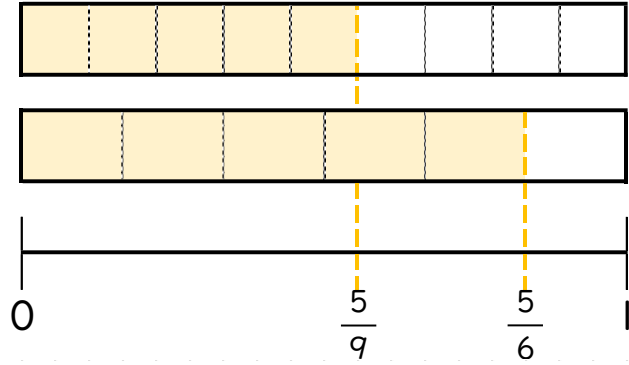


日にち： 月 日

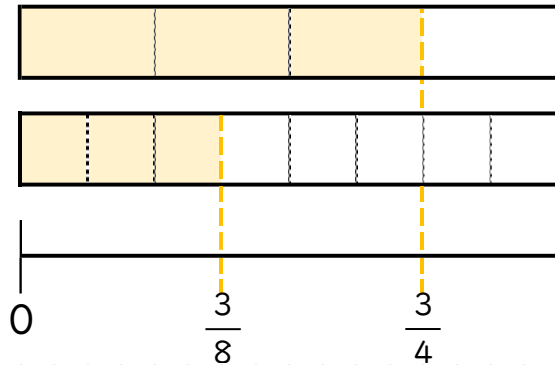
名まえ _____

・ 図を見て、 にあてはまる不等号を書きましょう。

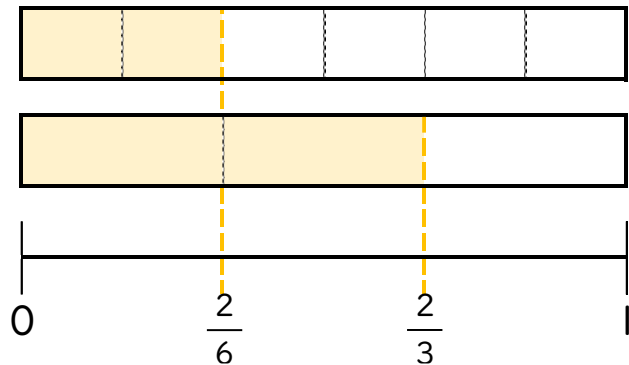
① $\frac{5}{9}$ $\frac{5}{6}$



② $\frac{3}{4}$ $\frac{3}{8}$



③ $\frac{2}{6}$ $\frac{2}{3}$





分数 8

分母で大きさくらべ

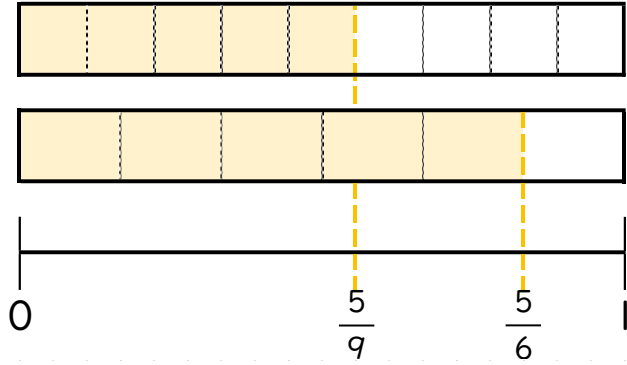


日にち： 月 日

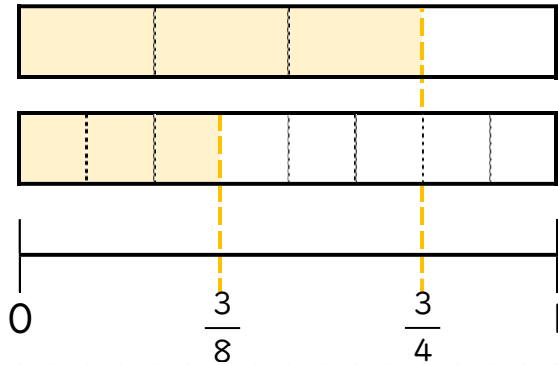
名まえ _____

・ 図を見て、 にあてはまる不等号を書きましょう。

① $\frac{5}{9} < \frac{5}{6}$



② $\frac{3}{4} > \frac{3}{8}$



③ $\frac{2}{6} < \frac{2}{3}$

