



垂直、平行と
四角形 12

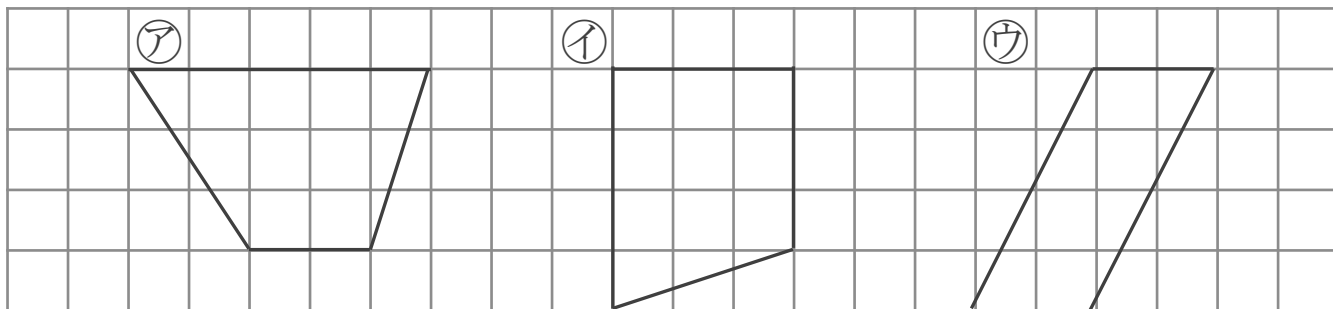
● 台形と平行四辺形

3

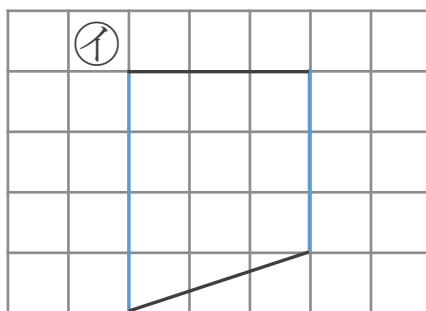
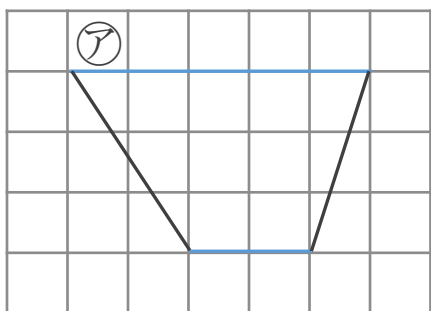
日にち： 月 日

名まえ _____

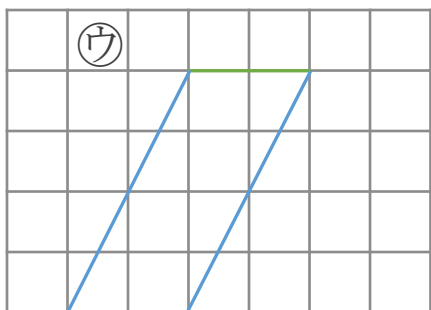
- 次の四角形を、台形と平行四辺形に分けましょう。
(うすい字はなぞりましょう。)



▼ 台形は、平行な辺が 組



▼ 平行四辺形は、平行な辺が 2 組



答え： 台形… ,

平行四辺形… _____





垂直、平行と
四角形 12

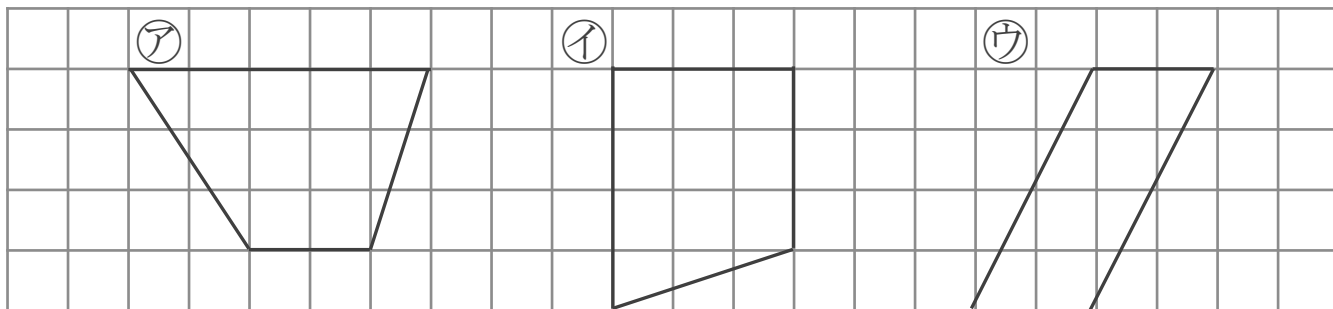
3

台形と平行四辺形

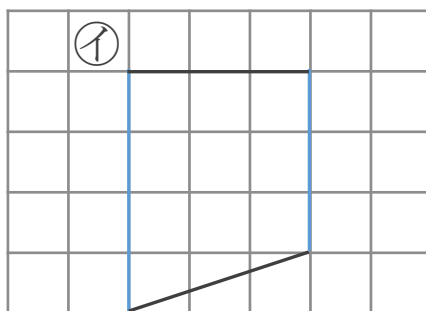
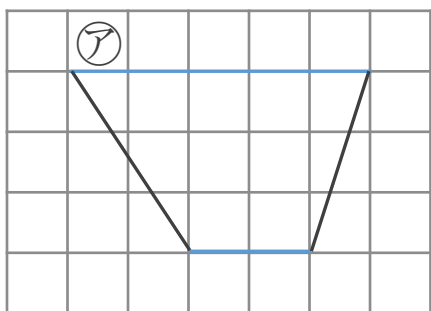
日にち： 月 日

名まえ _____

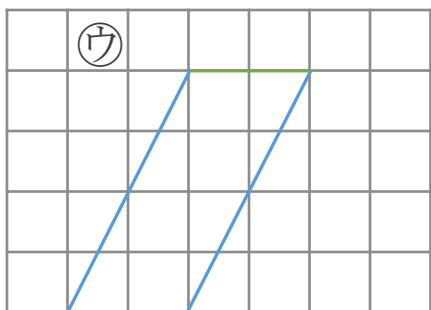
- 次の四角形を、台形と平行四辺形に分けましょう。
(うすい字はなぞりましょう。)



▼台形は、平行な辺が 1 組



▼平行四辺形は、平行な辺が 2 組



答え： 台形… (ア), (イ)

平行四辺形… (ウ)

