



がい数の 使い方と表し方 4 3

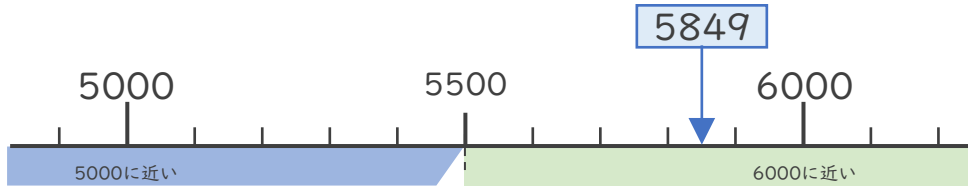
● 四捨五入とは

日にち： 月 日

名まえ _____

・ 次の問いに答えましょう。

① 5849は5000と6000のどちらに近いですか。



答え (6000)

・ ①のように、ある数をがい数で表したいときは **四捨五入** をして表すことができます。

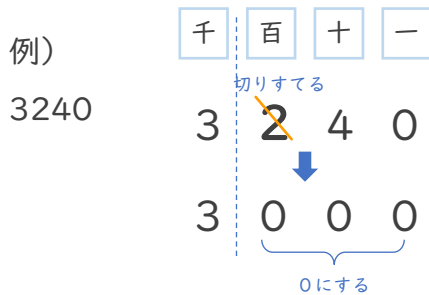
< 四捨五入のやりかた >

・ 千の位までのがい数で表すときは、1つ前の **百の位** を四捨五入します。

百の位の数か、

0, 1, 2, 3, 4

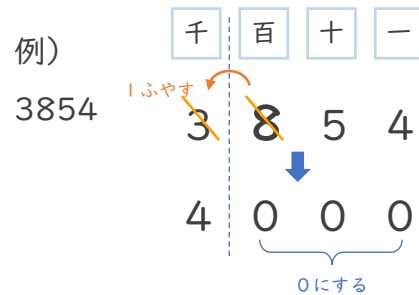
→ 切りすてる



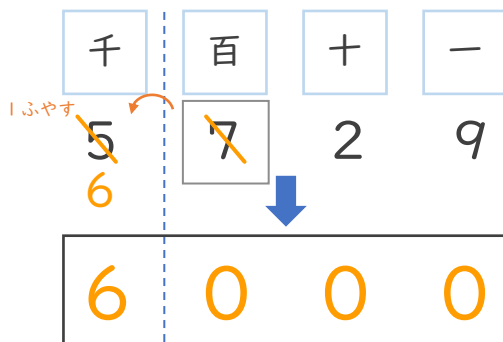
百の位の数か、

5, 6, 7, 8, 9

→ 切り上げる



② 5729を百の位で四捨五入して、千の位までのがい数で表しましょう。



③ 確認 答え



すらすらぷりんと