



垂直、平行と 四角形5

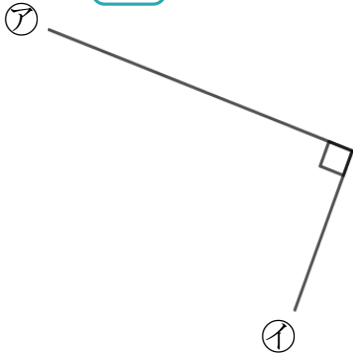
◎ 垂直な線を探す
(ヒントの点あり)



日にち： 月 日

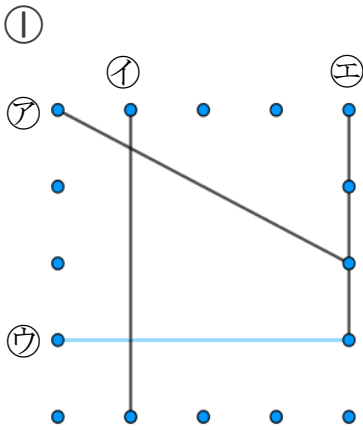
名まえ _____

1 次の に当てはまる言葉を答えましょう

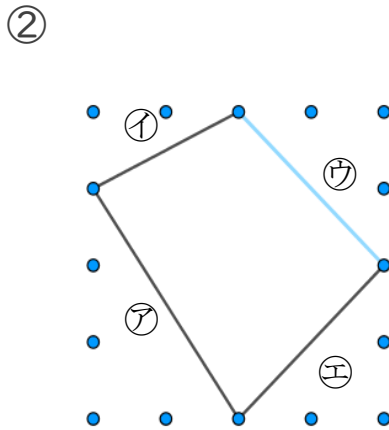


アとイの直線の並び方は です。

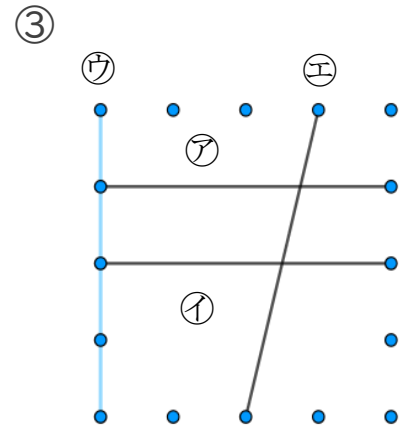
2 次の図で、ウの直線に垂直な直線はどれですか



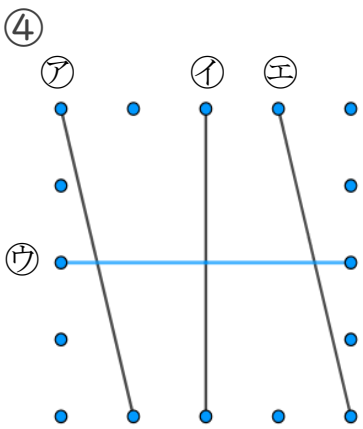
答え： _____



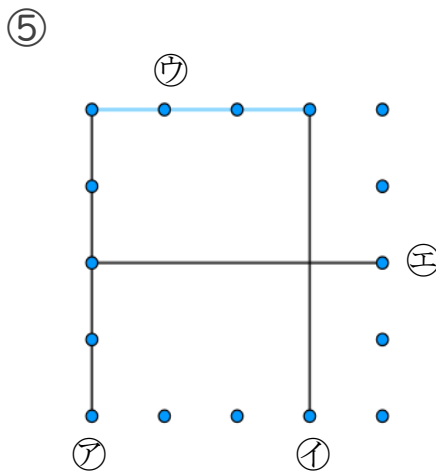
答え： _____



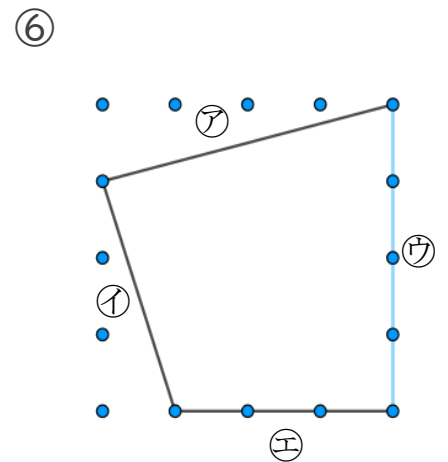
答え： _____



答え： _____



答え： _____



答え： _____



垂直、平行と 四角形5

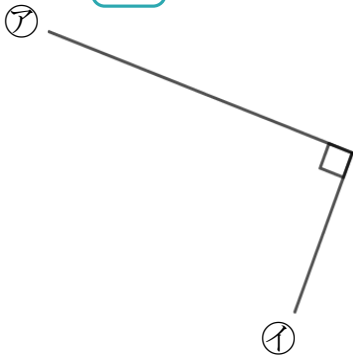
3

● 垂直な線を探す
(ヒントの点あり)

日にち： 月 日

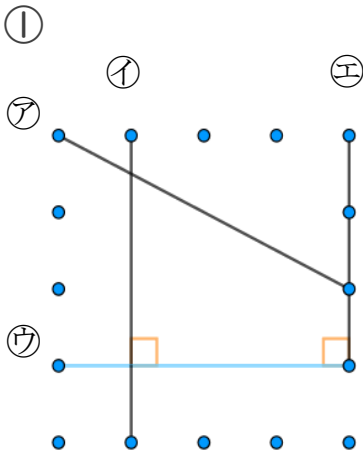
名まえ _____

1 次の に当てはまる言葉を答えましょう

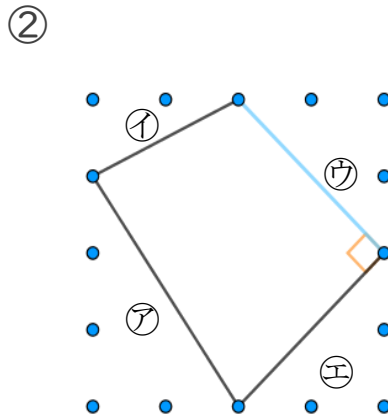


アとイの直線の並び方は **垂直** です。

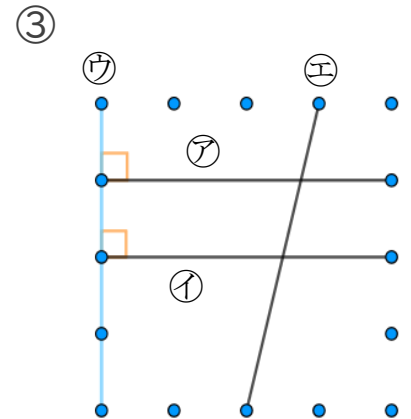
2 次の図で、ウの直線に垂直な直線はどれですか



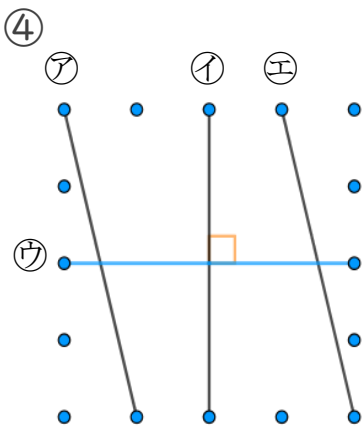
答え： **イ** , **エ**



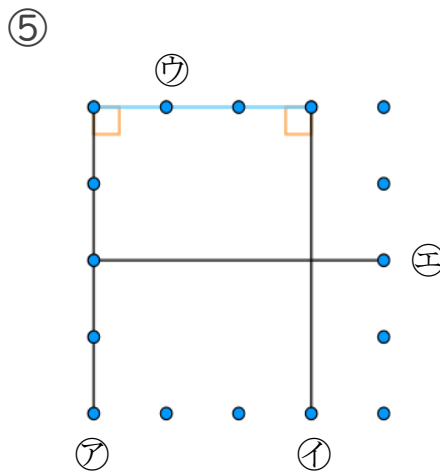
答え： **エ**



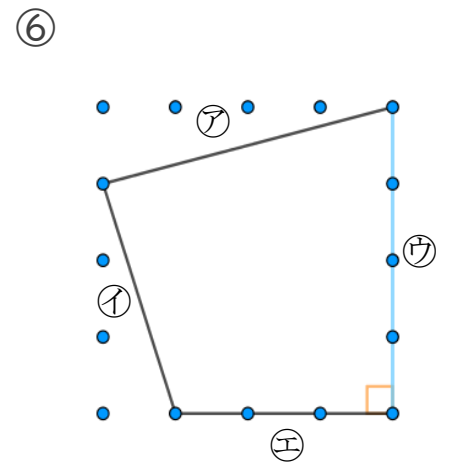
答え： **ア** , **イ**



答え： **イ**



答え： **ア** , **イ**



答え： **エ**

