



大きな数 5

大きな数の数直線

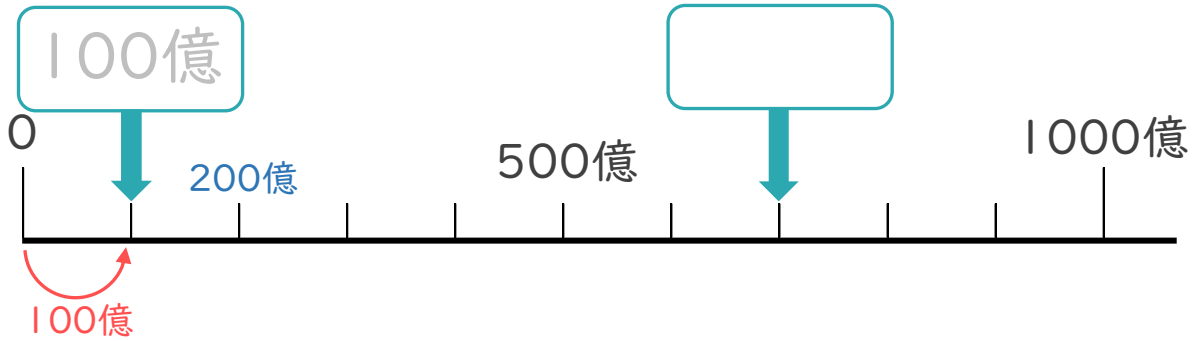


日にち： 月 日

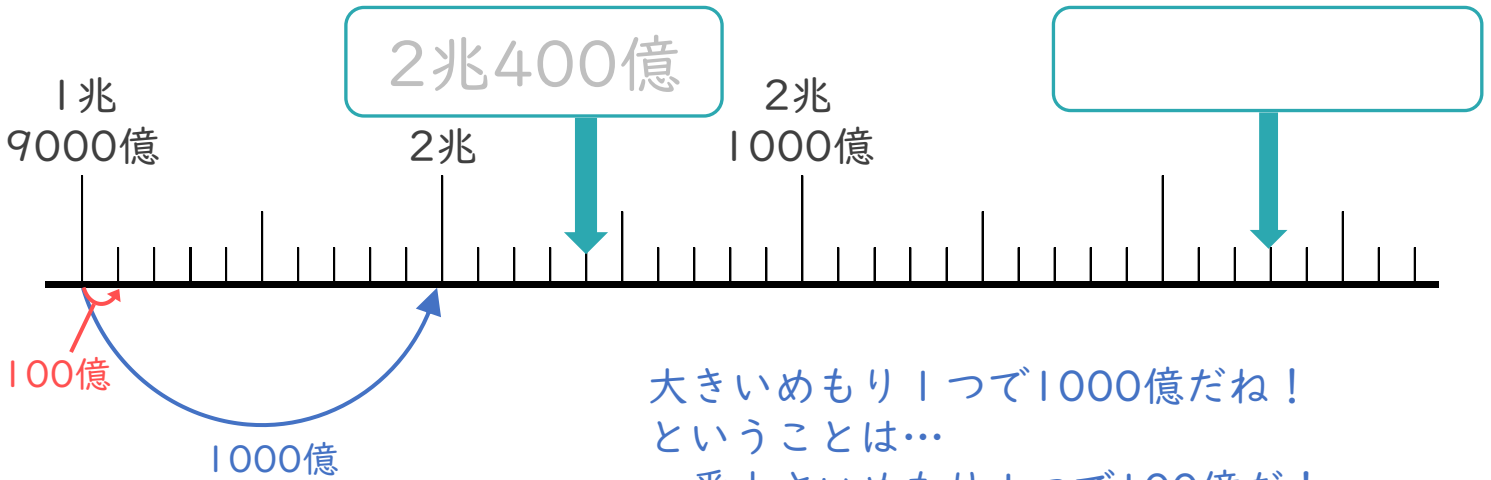
名まえ _____

・ 下の数直線で、 にあてはまる数を書きましょう。
(うすい字はなぞりましょう。)

①



②



大きいめもり1つで1000億だね！
ということは…
一番小さいめもり1つで100億だ！



③



③ 確認





大きな数 5

大きな数の数直線



日にち： 月 日

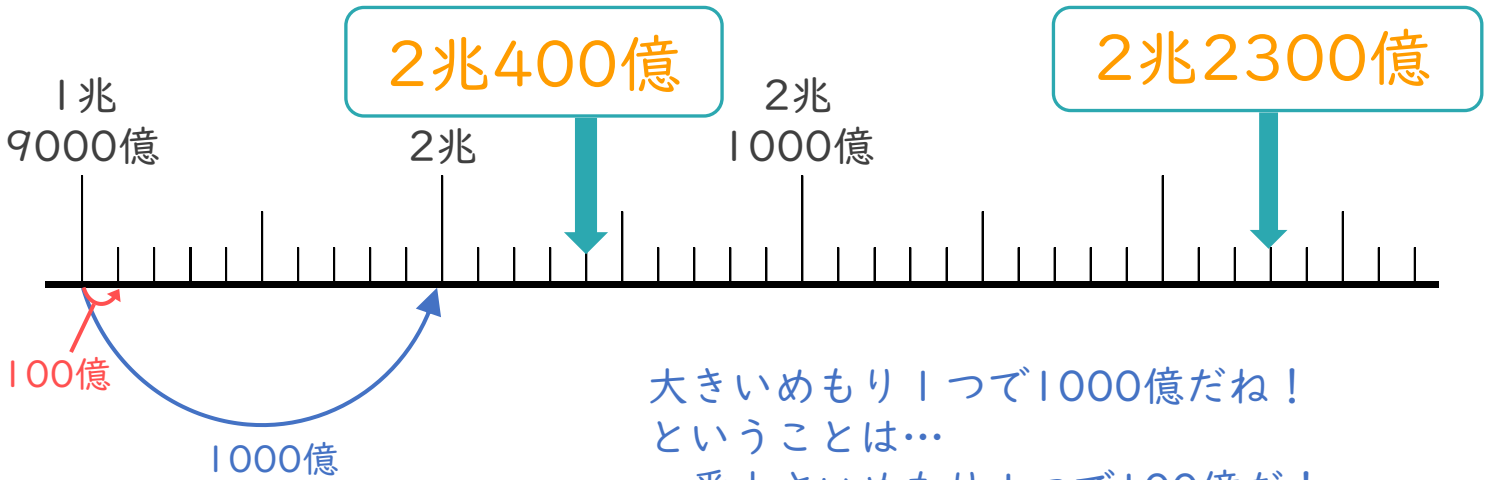
名まえ _____

・ 下の数直線で、 にあてはまる数を書きましょう。
(うすい字はなぞりましょう。)

①



②



大きいめもり1つで1000億だね！
ということは…
一番小さいめもり1つで100億だ！



③



③ 確認 答え



すらすらぷりんと