



面積の
はかり方と表し方 9

◎ 平方キロメートルの面積

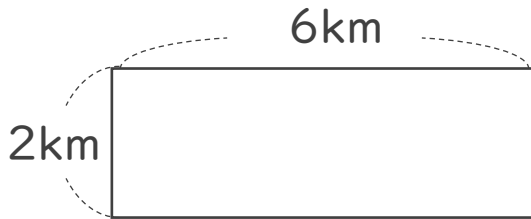


日にち： 月 日

名まえ _____

・ 次の問いに答えましょう。

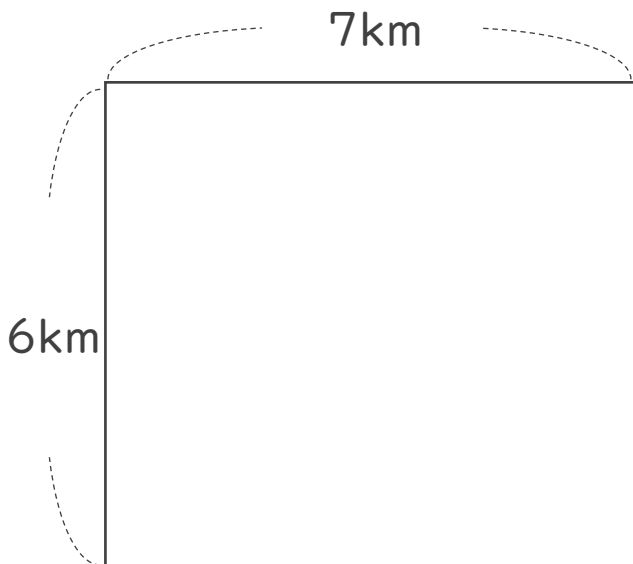
1 たて4 km、横4 kmの浮島の面積は、何 km^2 でしょう。



式：

答え： _____

2 次の図形の面積を求めましょう。



式：

答え： _____



面積の
はかり方と表し方 9

◎ 平方キロメートルの面積

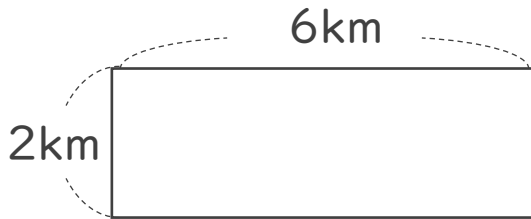


日にち： 月 日

名まえ _____

・ 次の問いに答えましょう。

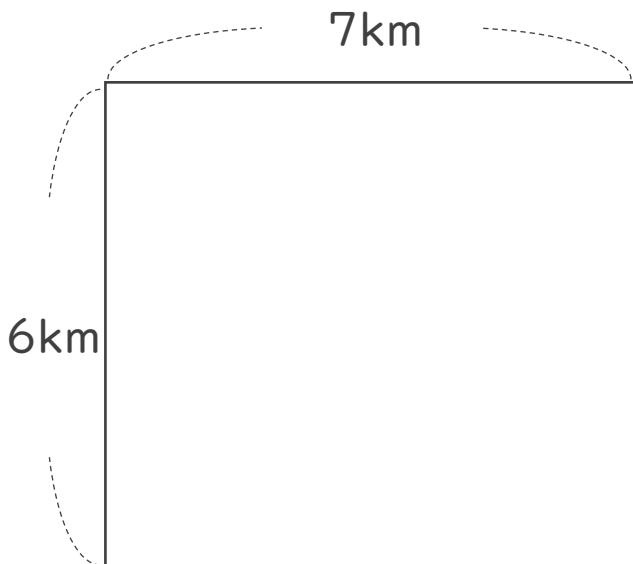
1 たて2 km、横6 kmの浮島の面積は、何 km^2 でしょう。



式： $2 \times 6 = 12$

答え： 12 km^2

2 次の図形の面積を求めましょう。



式： $6 \times 7 = 42$

答え： 42 km^2