



面積の  
はかり方と表し方 8

◎ 平方メートルの面積

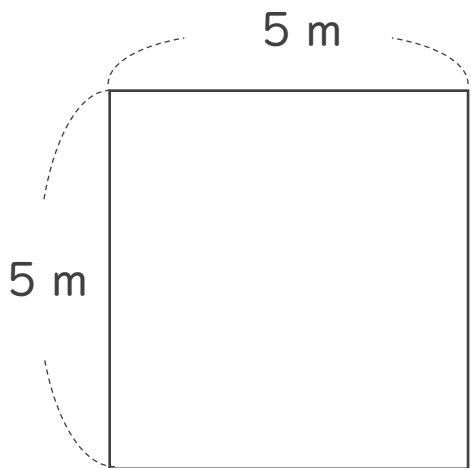


日にち：            月            日

名まえ \_\_\_\_\_

・ 次の問いに答えましょう。

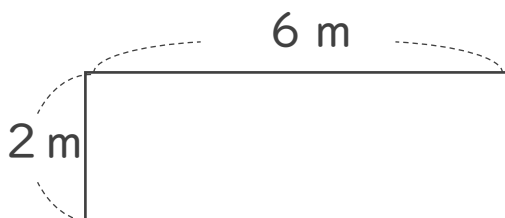
1 たて5 m、横5 mの部屋の面積は、何 $m^2$ でしょう。



式：

答え： \_\_\_\_\_

2 次の図形の面積を求めましょう。



式：

答え： \_\_\_\_\_



面積の  
はかり方と表し方 8

◎ 平方メートルの面積

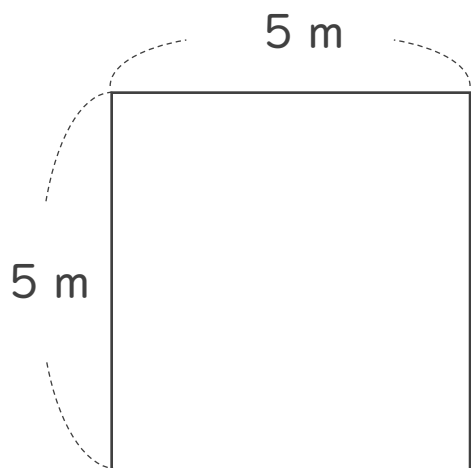


日にち：            月            日

名まえ \_\_\_\_\_

・ 次の問いに答えましょう。

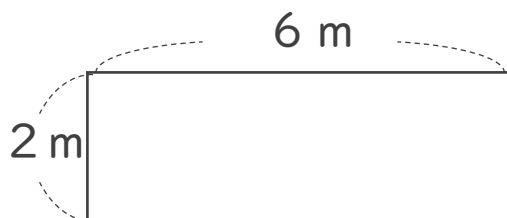
1 たて5 m、横5 mの部屋の面積は、何 $m^2$ でしょう。



式： $5 \times 5 = 25$

答え：25  $m^2$

2 次の図形の面積を求めましょう。



式： $2 \times 6 = 12$

答え：12  $m^2$