



がい数の 使い方と表し方 ③

● 数直線と四捨五入のはんい

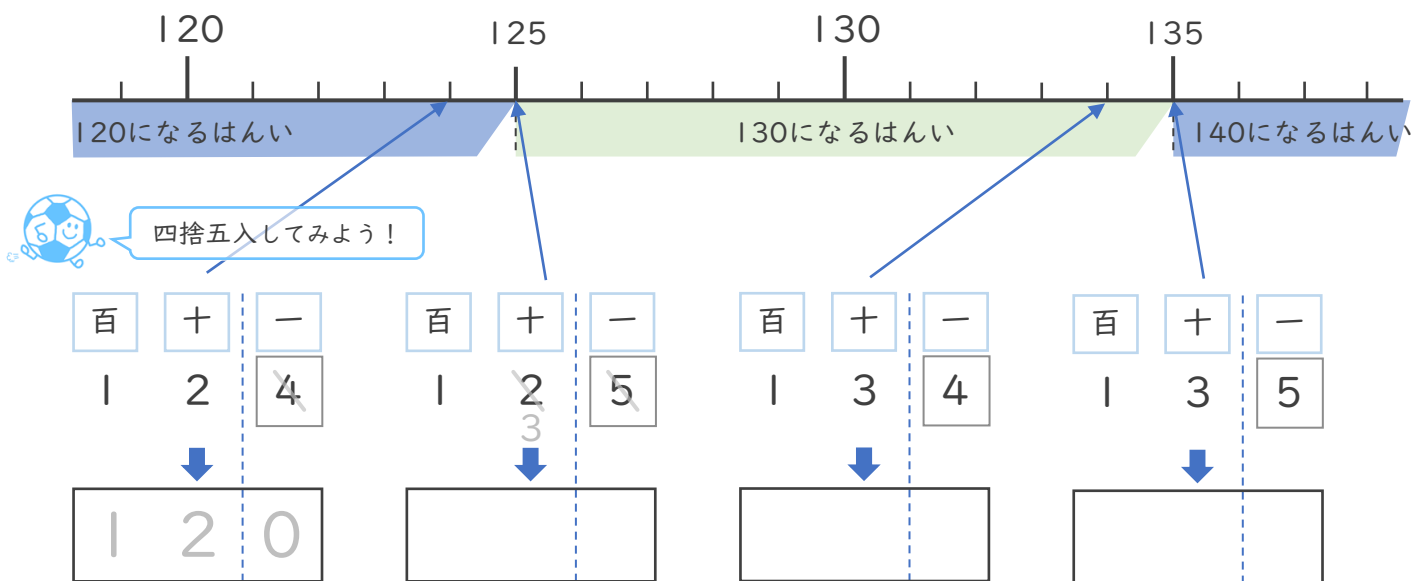


日にち： 月 日

名まえ _____

・ 次の問いに答えましょう。（うすい字はなぞりましょう。）

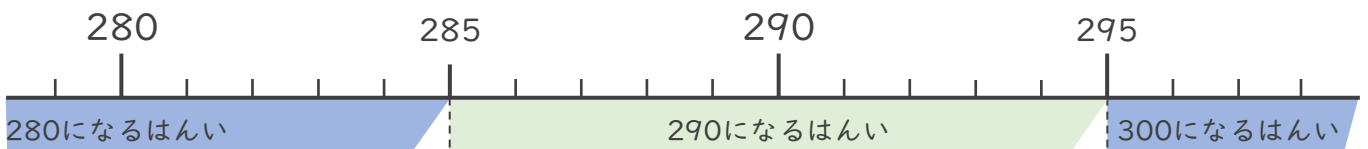
- ① 一の位で四捨五入して130になる整数のうち、いちばん小さい数といちばん大きい数はいくつですか。



いちばん小さい数 ()

いちばん大きい数 ()

- ② 一の位で四捨五入して290になる整数のうち、いちばん小さい数といちばん大きい数はいくつですか。



いちばん小さい数 ()

いちばん大きい数 ()



がい数の 使い方と表し方 ③

● 数直線と四捨五入のはんい

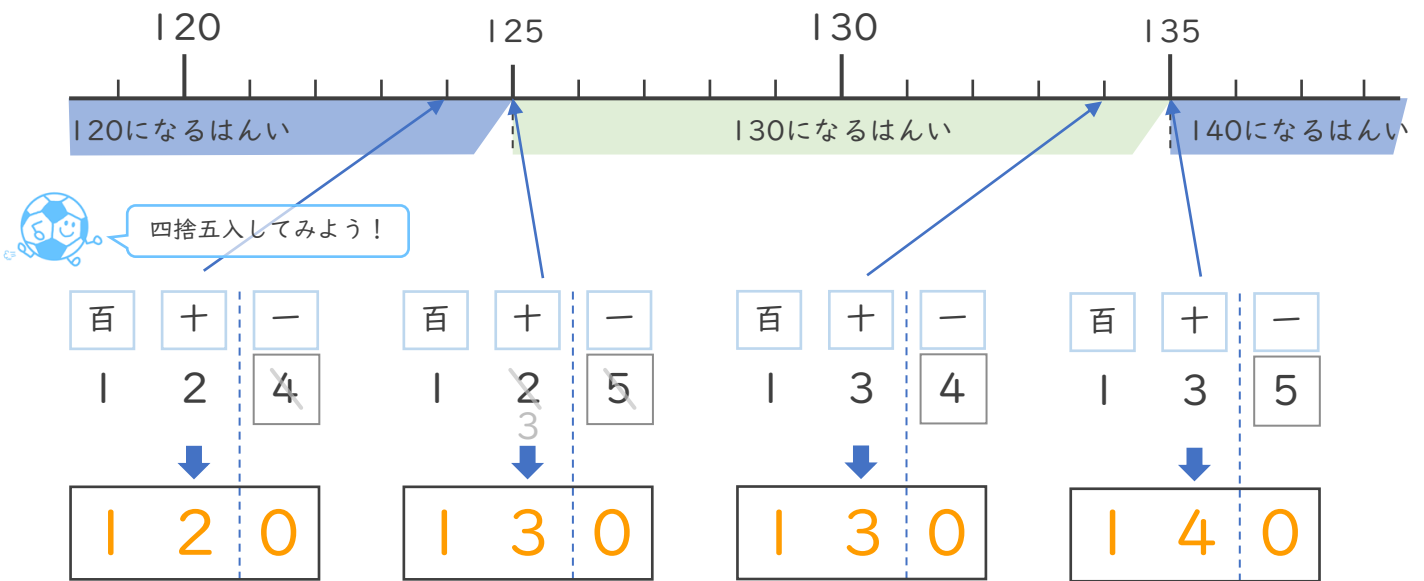


日にち： 月 日

名まえ _____

・ 次の問いに答えましょう。（うすい字はなぞりましょう。）

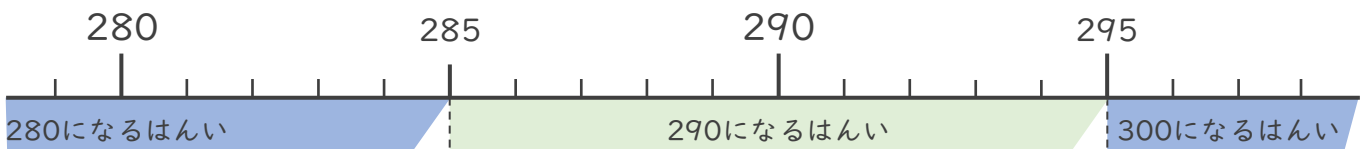
- ① 一の位で四捨五入して130になる整数のうち、いちばん小さい数といちばん大きい数はいくつですか。



いちばん小さい数 (125)

いちばん大きい数 (134)

- ② 一の位で四捨五入して290になる整数のうち、いちばん小さい数といちばん大きい数はいくつですか。



いちばん小さい数 (285)

いちばん大きい数 (294)

