



# 小数の表し方5

◎ 数直線の読みとり



日にち： 月 日

名まえ \_\_\_\_\_

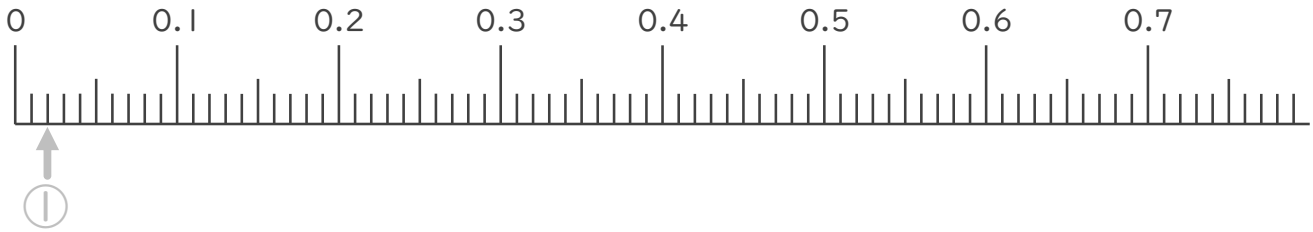
1. 次の小数を表すめもりに ↑ を書きましょう。

① 0.02

② 0.12

③ 0.25

④ 0.54

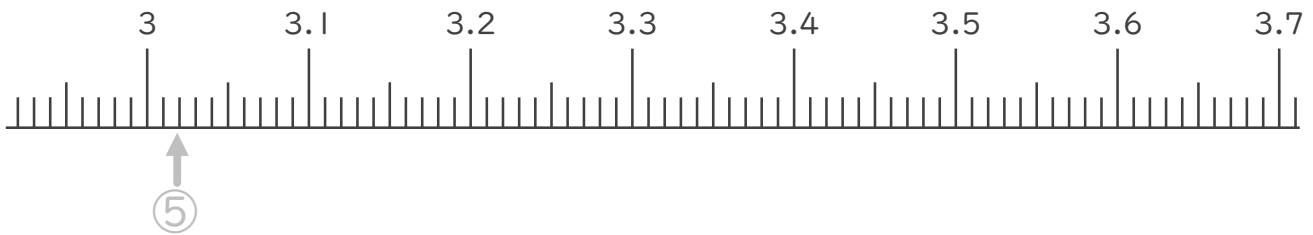


⑤ 3.02

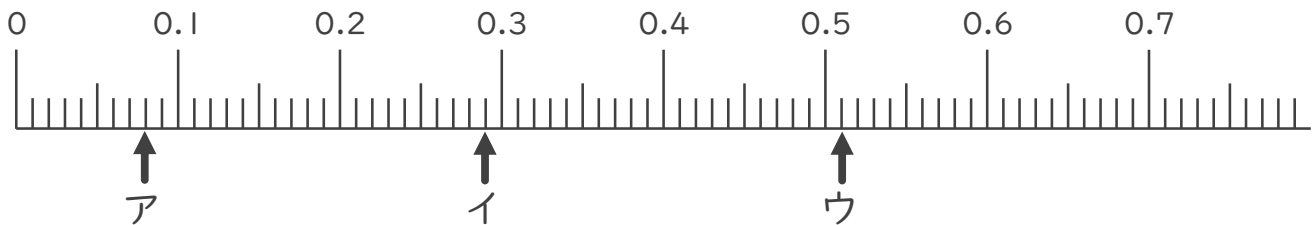
⑥ 3.16

⑦ 3.37

⑧ 3.66



2. 次の数直線でア～オが表す数を答えましょう。



ア 0.08

イ \_\_\_\_\_

ウ \_\_\_\_\_





# 小数の表し方5

◎ 数直線の読みとり



日にち： 月 日

名まえ \_\_\_\_\_

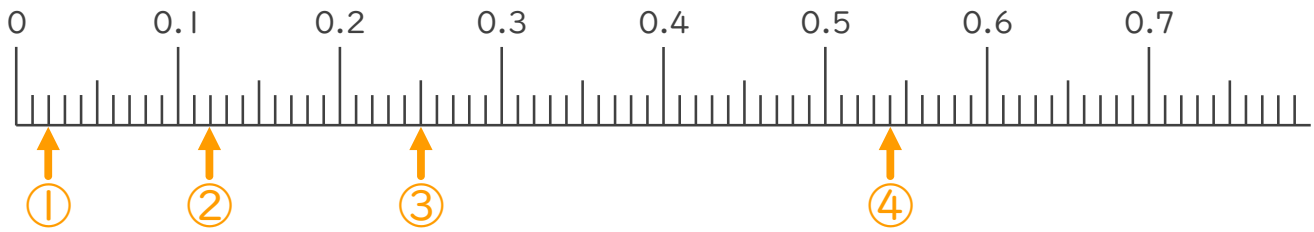
1. 次の小数を表すめもりに ↑ を書きましょう。

① 0.02

② 0.12

③ 0.25

④ 0.54

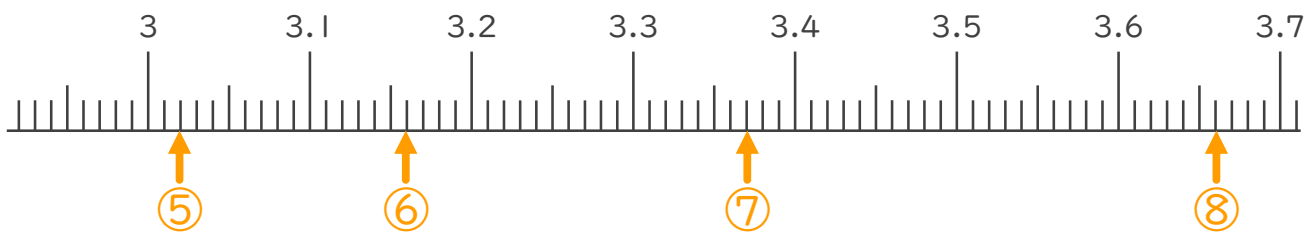


⑤ 3.02

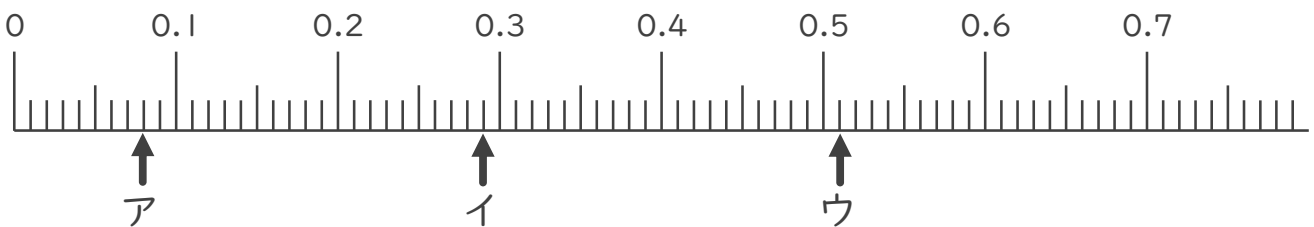
⑥ 3.16

⑦ 3.37

⑧ 3.66



2. 次の数直線でア～オが表す数を答えましょう。



ア 0.08

イ 0.29

ウ 0.51

