



# 小数の表し方5

## ⑤ 数直線の読みとり

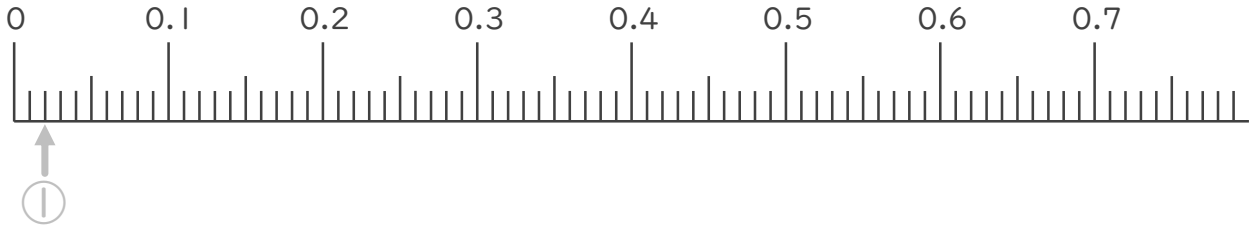


日にち：      月      日

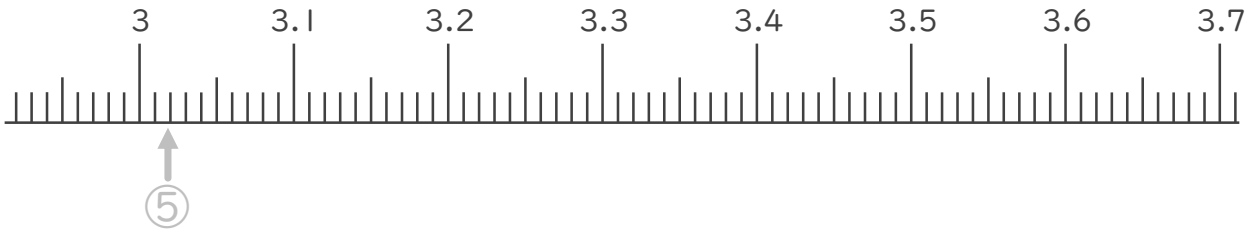
名まえ \_\_\_\_\_

1. 次の小数を表すめもりに ↑ を書きましょう。  
(うすい字はなぞりましょう。)

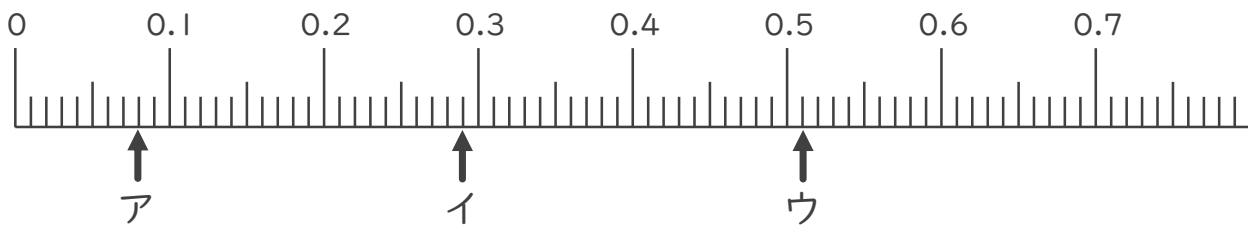
- ① 0.02      ② 0.12      ③ 0.25      ④ 0.54



- ⑤ 3.02      ⑥ 3.16      ⑦ 3.37      ⑧ 3.66



2. 次の数直線でア～オが表す数を答えましょう。  
(うすい字はなぞりましょう。)



ア 0.08

イ \_\_\_\_\_

ウ \_\_\_\_\_





# 小数の表し方5

## ⑤ 数直線の読みとり

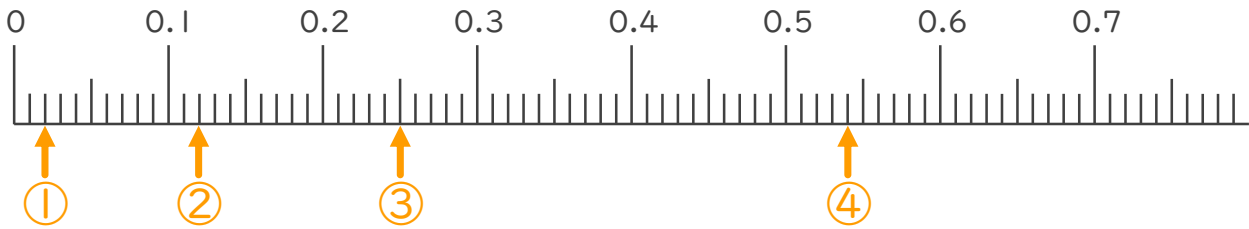


日にち： 月 日

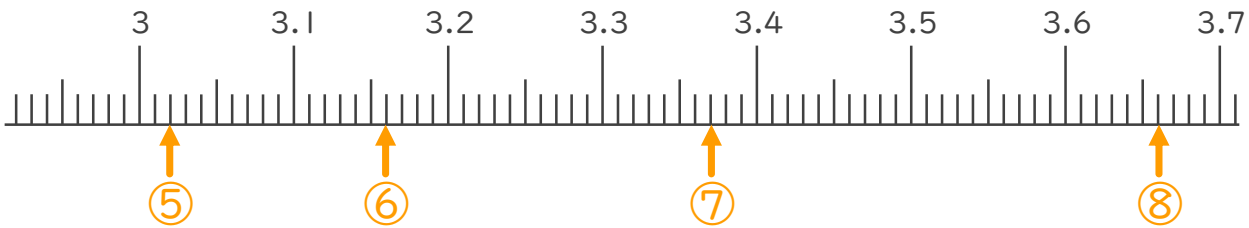
名まえ \_\_\_\_\_

1. 次の小数を表すめもりに ↑ を書きましょう。  
(うすい字はなぞりましょう。)

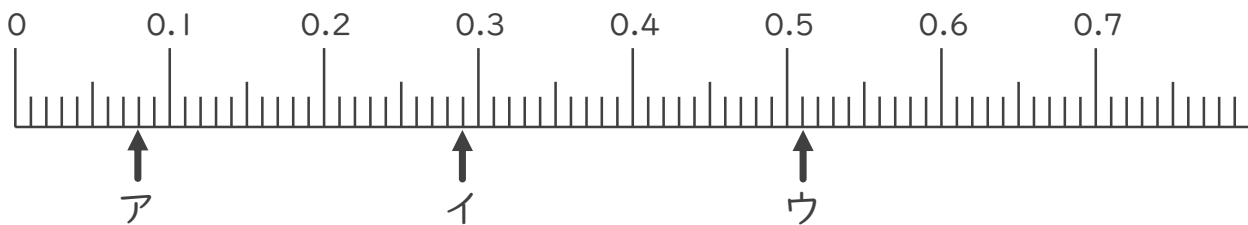
- ① 0.02      ② 0.12      ③ 0.25      ④ 0.54



- ⑤ 3.02      ⑥ 3.16      ⑦ 3.37      ⑧ 3.66



2. 次の数直線でア～オが表す数を答えましょう。  
(うすい字はなぞりましょう。)



ア 0.08

イ 0.29

ウ 0.51

