



小数の表し方5

◎ 数直線の読みとり



日にち： 月 日

名まえ _____

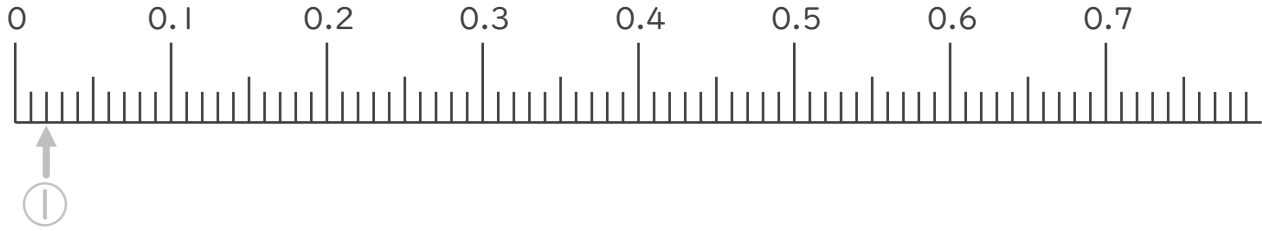
1. 次の小数を表すめもりに ↑ を書きましょう。
(うすい字はなぞりましょう。)

① 0.02

② 0.12

③ 0.25

④ 0.54

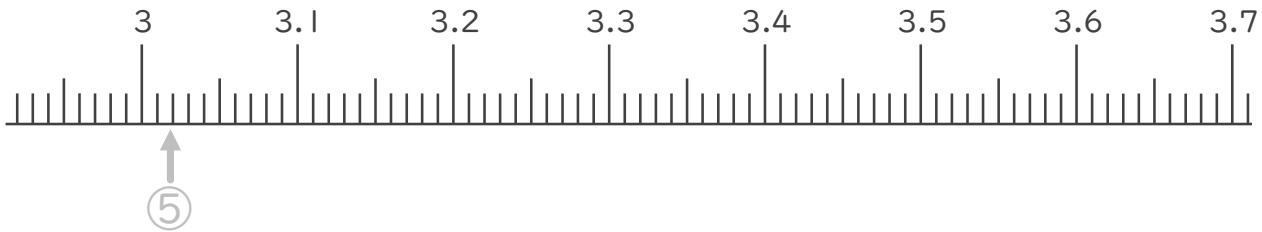


⑤ 3.02

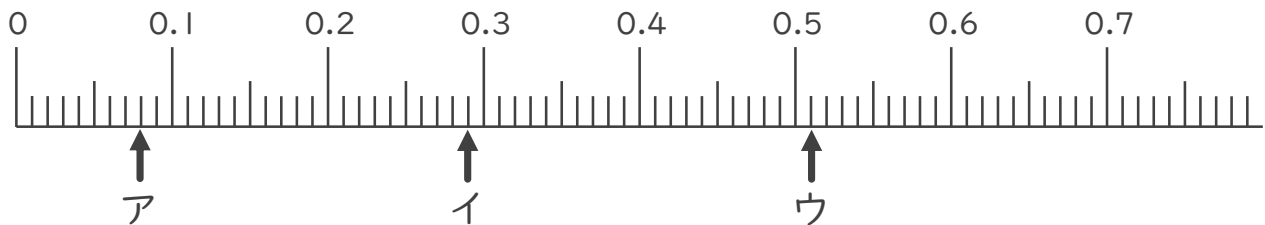
⑥ 3.16

⑦ 3.37

⑧ 3.66



2. 次の数直線でア～ウが表す数を答えましょう。
(うすい字はなぞりましょう。)



ア 0.08

イ _____

ウ _____





小数の表し方5

◎ 数直線の読みとり

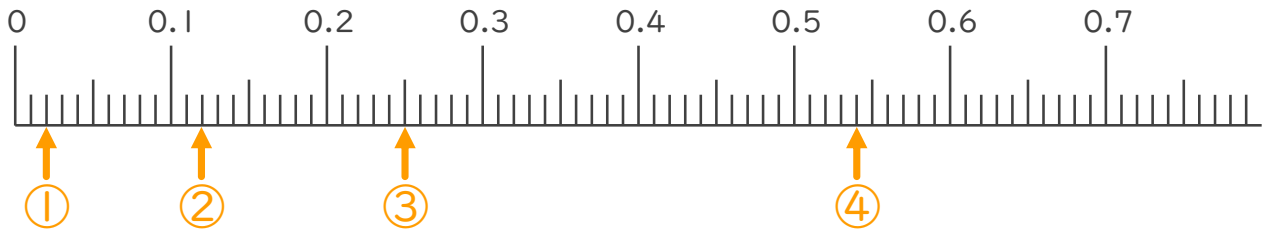


日にち： 月 日

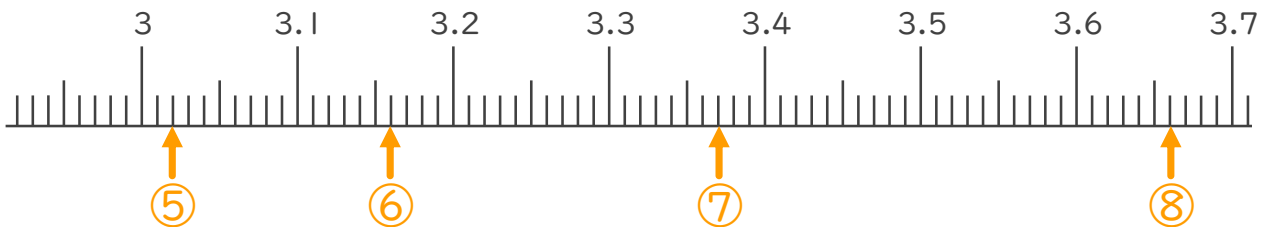
名まえ _____

1. 次の小数を表すめもりに ↑ を書きましょう。
(うすい字はなぞりましょう。)

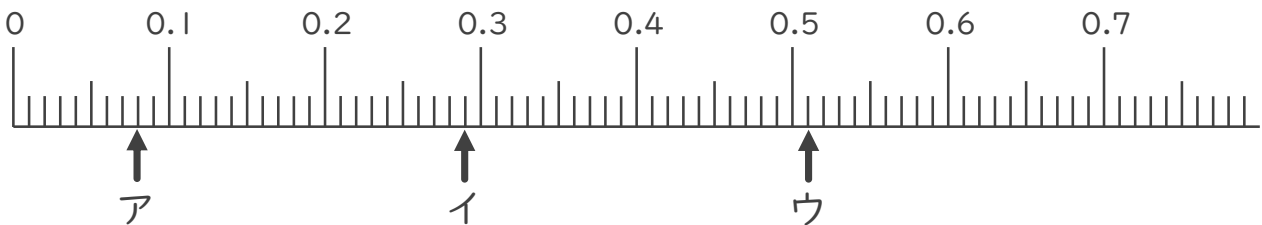
- ① 0.02
- ② 0.12
- ③ 0.25
- ④ 0.54



- ⑤ 3.02
- ⑥ 3.16
- ⑦ 3.37
- ⑧ 3.66



2. 次の数直線でア～ウが表す数を答えましょう。
(うすい字はなぞりましょう。)



ア 0.08 イ 0.29 ウ 0.51

