



## 分数 10

● 整数と分数のたし算

3

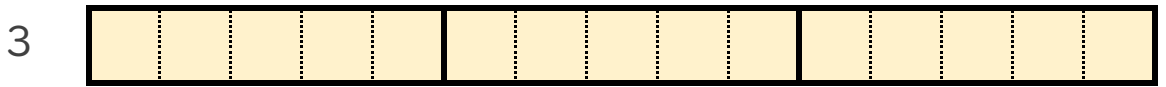
日にち：            月            日

名まえ \_\_\_\_\_

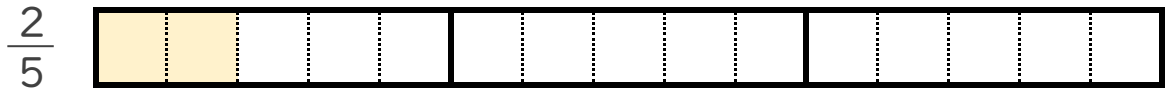
1  $3 + \frac{2}{5}$  の計算をして、答えを仮分数で求めましょう。

(うすい字はなぞりましょう。)

① 3 と  $\frac{2}{5}$  は、それぞれ  $\frac{1}{5}$  の何こ分ですか。



$\frac{1}{5}$  の  こ分



$\frac{1}{5}$  の  こ分

②  $3 + \frac{2}{5} = \frac{15}{5} + \frac{2}{5} =$

2 次の計算をして、答えを仮分数で求めましょう。

(うすい字はなぞりましょう。)

①  $\frac{4}{5} + 6 = \frac{4}{5} + \frac{30}{5} =$

②  $4 + \frac{5}{6} =$





# 分数 10

● 整数と分数のたし算



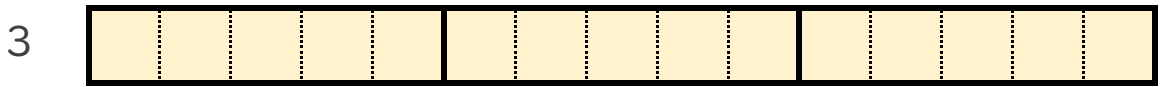
日にち： 月 日

名まえ \_\_\_\_\_

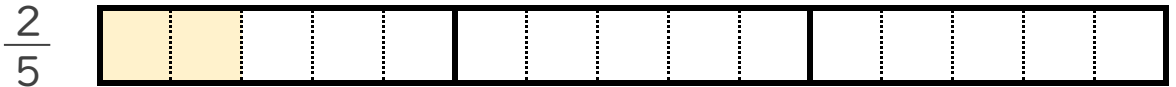
1  $3 + \frac{2}{5}$  の計算をして、答えを仮分数で求めましょう。

(うすい字はなぞりましょう。)

① 3 と  $\frac{2}{5}$  は、それぞれ  $\frac{1}{5}$  の何こ分ですか。



$\frac{1}{5}$  の 15 こ分



$\frac{1}{5}$  の 2 こ分

②  $3 + \frac{2}{5} = \frac{15}{5} + \frac{2}{5} = \frac{17}{5}$

2 次の計算をして、答えを仮分数で求めましょう。

(うすい字はなぞりましょう。)

①  $\frac{4}{5} + 6 = \frac{4}{5} + \frac{30}{5} = \frac{34}{5}$

②  $4 + \frac{5}{6} = \frac{24}{6} + \frac{5}{6} = \frac{29}{6}$

