



分数 12

◎ 整数と分数のひき算



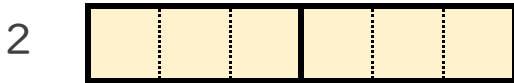
日にち： 月 日

名まえ _____

1 $2 - \frac{2}{3}$ の計算をして、答えは仮分数で表しましょう。

(うすい字はなぞりましょう。)

① 2 と $\frac{2}{3}$ は、それぞれ $\frac{1}{3}$ の何こ分ですか。



$\frac{1}{3}$ の こ分



$\frac{1}{3}$ の こ分

② $2 - \frac{2}{3} = \frac{6}{3} - \frac{2}{3} =$

2 次の計算をして、答えは仮分数で表しましょう。

(うすい字はなぞりましょう。)

① $6 - \frac{1}{3} = \frac{18}{3} - \frac{1}{3} =$

② $4 - \frac{3}{5} =$



分数 12

◎ 整数と分数のひき算



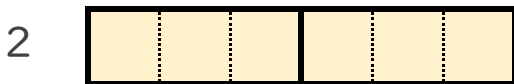
日にち： 月 日

名まえ _____

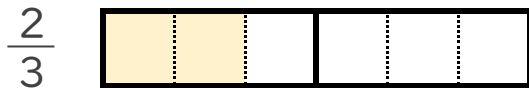
1 $2 - \frac{2}{3}$ の計算をして、答えは仮分数で表しましょう。

(うすい字はなぞりましょう。)

① 2 と $\frac{2}{3}$ は、それぞれ $\frac{1}{3}$ の何こ分ですか。



$\frac{1}{3}$ の **6** こ分



$\frac{1}{3}$ の **2** こ分

② $2 - \frac{2}{3} = \frac{6}{3} - \frac{2}{3} = \frac{4}{3}$

2 次の計算をして、答えは仮分数で表しましょう。

(うすい字はなぞりましょう。)

① $6 - \frac{1}{3} = \frac{18}{3} - \frac{1}{3} = \frac{17}{3}$

② $4 - \frac{3}{5} = \frac{20}{5} - \frac{3}{5} = \frac{17}{5}$