



小数のわり算 25

文章問題の練習
(余りや概数)

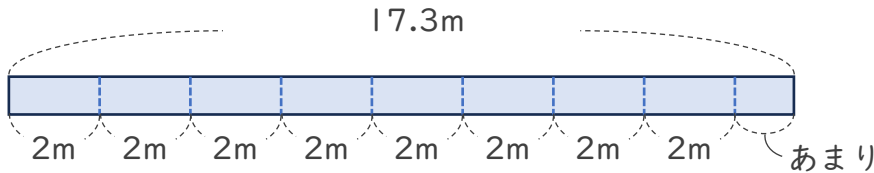


日にち： 月 日

名まえ _____

1 リボンが17.3mあります。2mのリボンでブローチを1こ作ることができます。ブローチは何こできて、リボンは何mあまりますか。

筆算スペース



式

答え (_____ できて、 _____ あまる。)

一の位まで
計算すればいいね!



2 3Lの重さが5.2kgの土があります。この土の1Lの重さは何kgですか。答えは四捨五入して、上から2けたのがい数で求めましょう。

筆算スペース



式

答え (_____)

上から3けた目まで
計算すればいいね!





小数のわり算 25

文章問題の練習
(余りや概数)

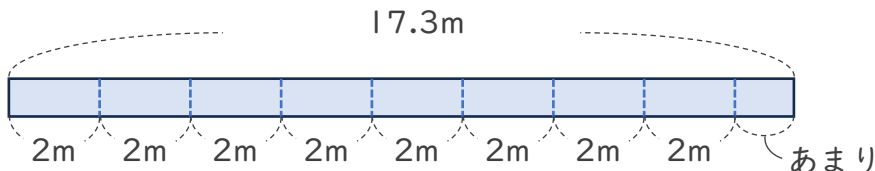


日にち： 月 日

名まえ _____

1 リボンが17.3mあります。2mのリボンでブローチを1こ作ることができます。ブローチは何こできて、リボンは何mあまりますか。

筆算スペース



式 $17.3 \div 2 = 8 \text{あまり} 1.3$


答え $\left(\underline{\quad 8 \text{こ} \quad} \text{できて、} \underline{\quad 1.3 \text{m} \quad} \text{あまる。} \right)$

一の位まで計算すればいいね!



2 3Lの重さが5.2kgの土があります。この土の1Lの重さは何kgですか。答えは四捨五入して、上から2けたのがい数で求めましょう。

筆算スペース



式 $5.2 \div 3 = 1.73 \dots$

答え $\left(\text{(およそ)} \underline{\quad 1.7 \text{ kg} \quad} \right)$

上から3けた目まで計算すればいいね!

