



角の大きさ 00

● 時計回りの角の作図

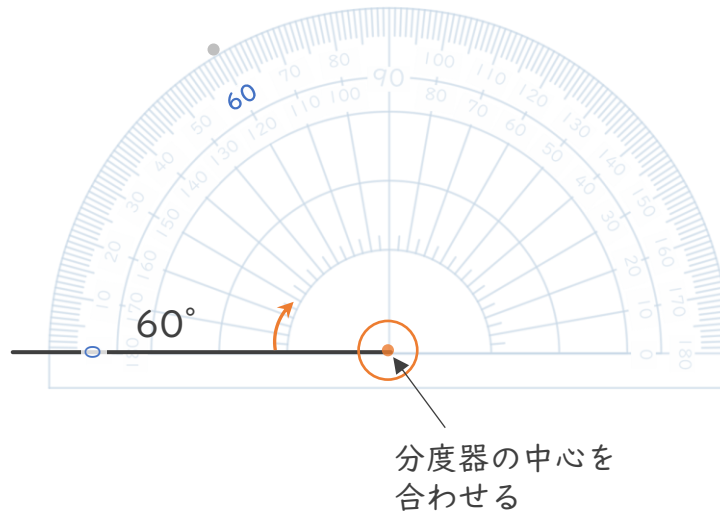


日にち： 月 日


名まえ _____

・ 次の角をかきましょう。(うすい点はなぞりましょう。)


① 60°



② 75°



③ 150°





角の大きさ 00

● 時計回りの角の作図

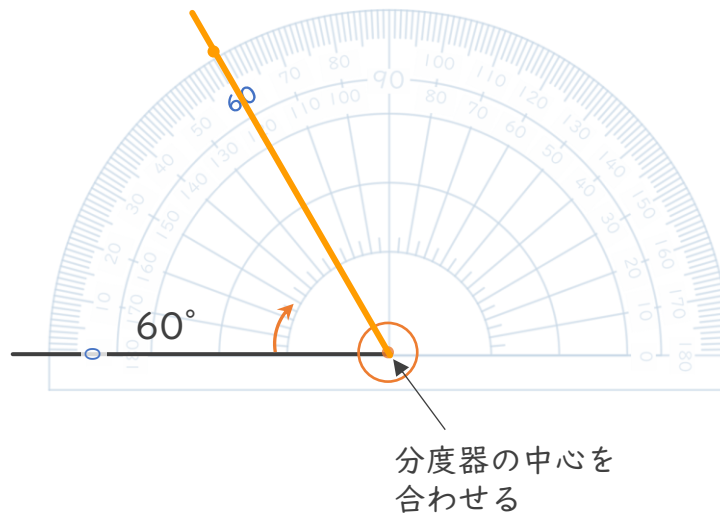


日にち： 月 日

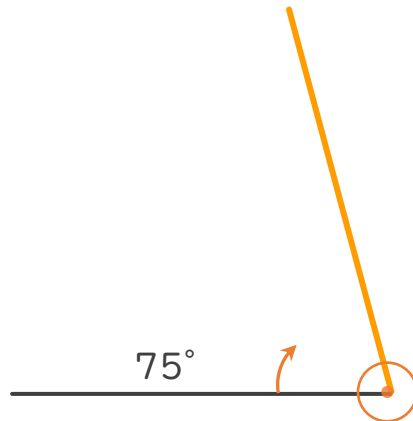
名まえ _____

・ 次の角をかきましょう。(うすい点はなぞりましょう。)

① 60°



② 75°



③ 150°

