



# 小数の表し方2

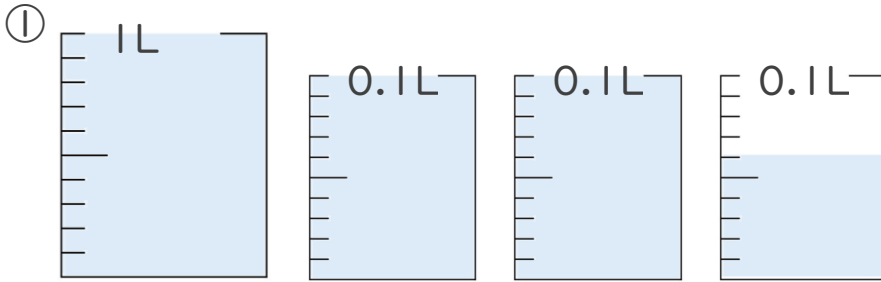


## ◎ 水のかさの読みとり

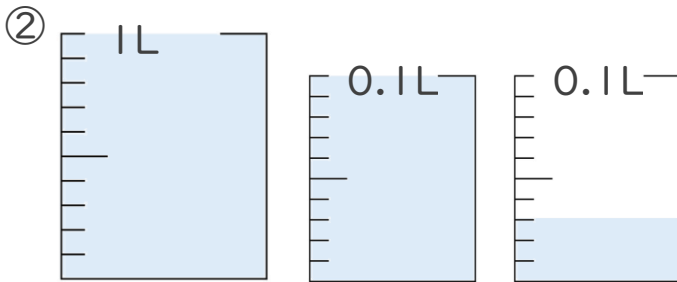
日にち：        月        日

名まえ \_\_\_\_\_

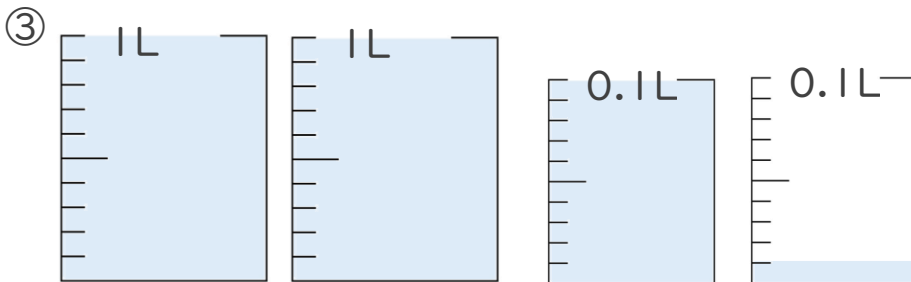
- ・ 1L入る水さしと、0.1L入る水さしがあります。  
水さしに入っている水のかさを、L単位で表しましょう。  
(うすい字はなぞりましょう。)



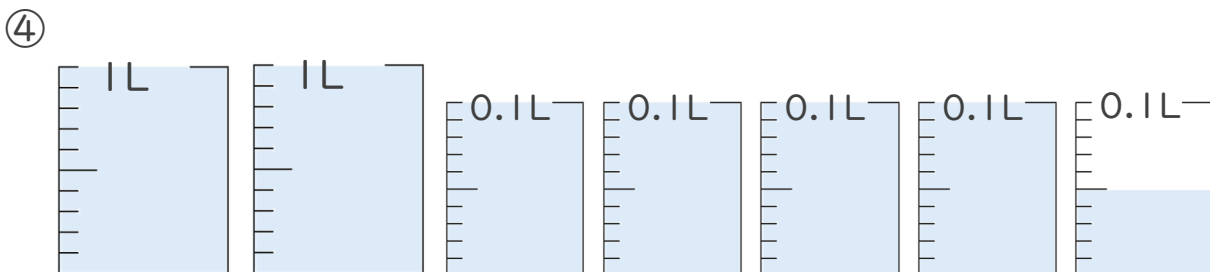
答え 1.26L



答え \_\_\_\_\_ L



答え \_\_\_\_\_



答え \_\_\_\_\_





# 小数の表し方2

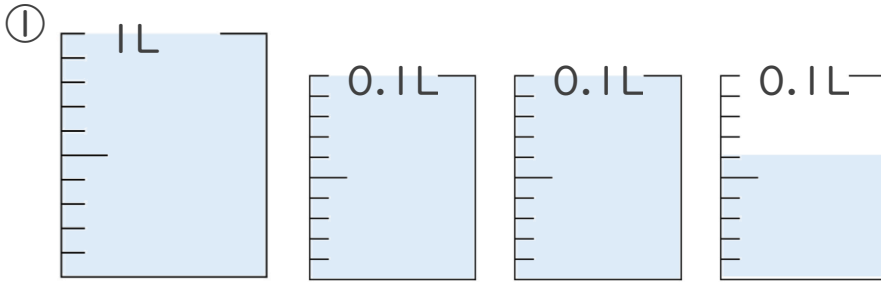


## ㉓ 水のかさの読みとり

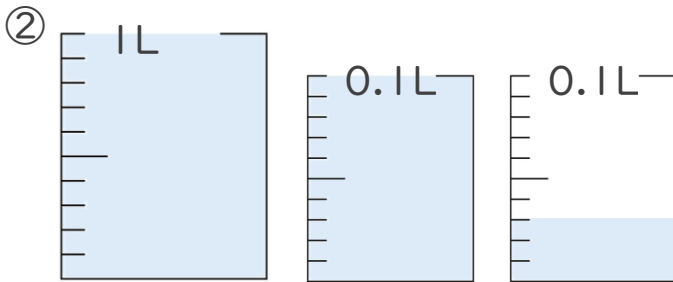
日にち：        月        日

名まえ \_\_\_\_\_

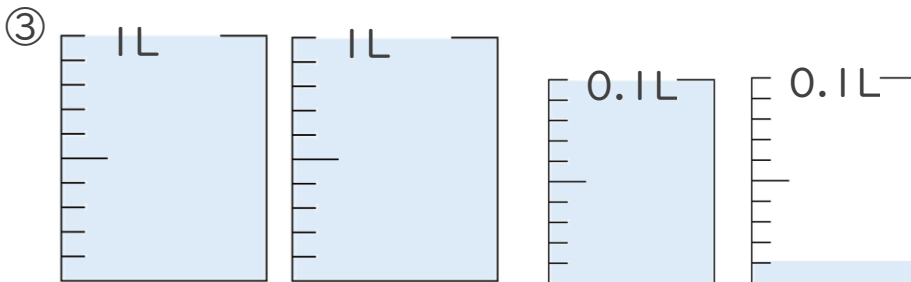
- ・ 1L入る水さしと、0.1L入る水さしがあります。  
水さしに入っている水のかさを、L単位で表しましょう。  
(うすい字はなぞりましょう。)



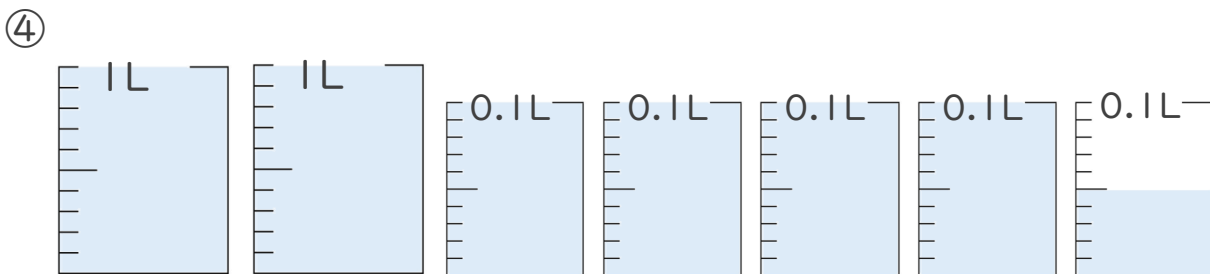
答え 1.26L



答え 1.13L



答え 2.11L



答え 2.45L

