



小数の表し方 4

◎ 水のかさをぬる

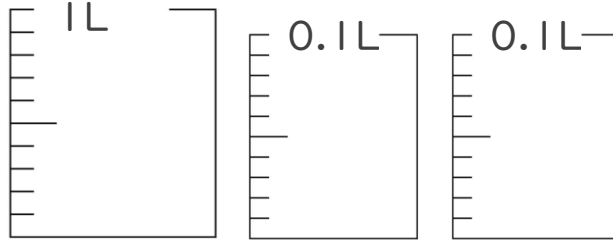


日にち： 月 日

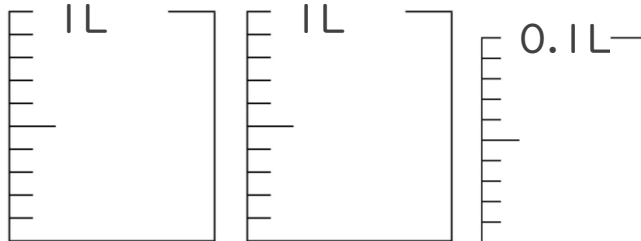
名まえ _____

・ 次の水のかさの分だけ色をぬりましょう。

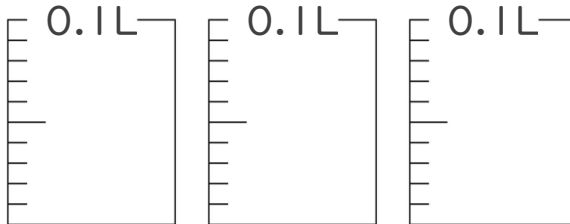
① 1.18 L



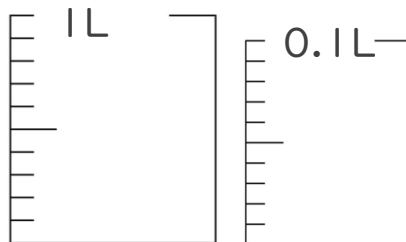
② 2.03 L



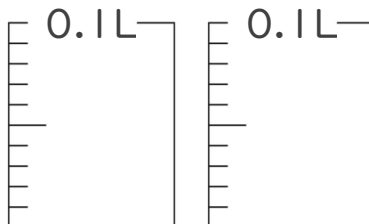
③ 0.25 L



④ 1.09 L



⑤ 0.13 L





小数の表し方 4



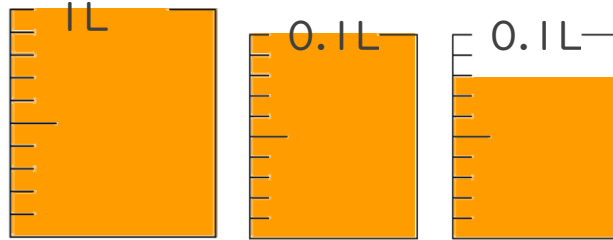
◎ 水のかさをぬる

日にち： 月 日

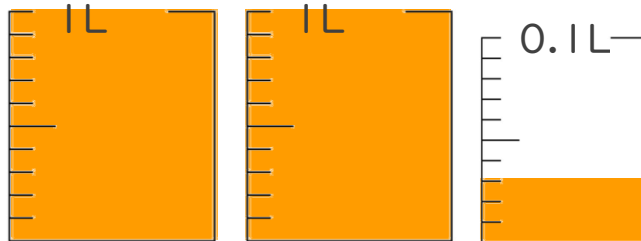
名まえ

・ 次の水のかさの分だけ色をぬりましょう。

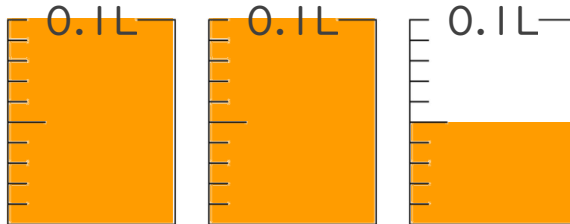
① 1.18 L



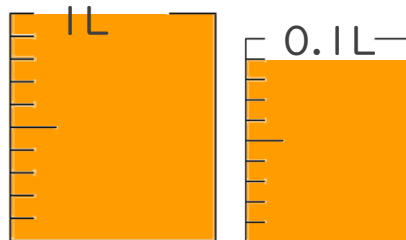
② 2.03 L



③ 0.25 L



④ 1.09 L



⑤ 0.13 L

