

# 分数 (分数の表し方) 2

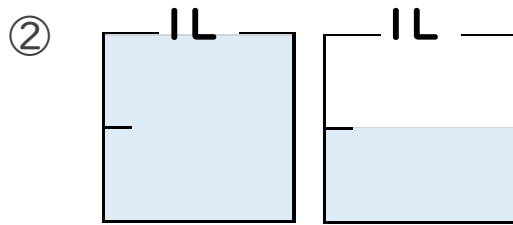
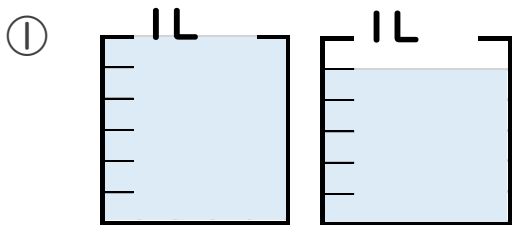
② 水のかさを帯分数と仮分数で表す



日にち： 月 日

名まえ

1 水のかさは何Lですか。仮分数と帯分数の両方で表しましょう。  
(うすい字はしっかりなぞりましょう。)



答え 仮分数…  $\frac{11}{6}$  L

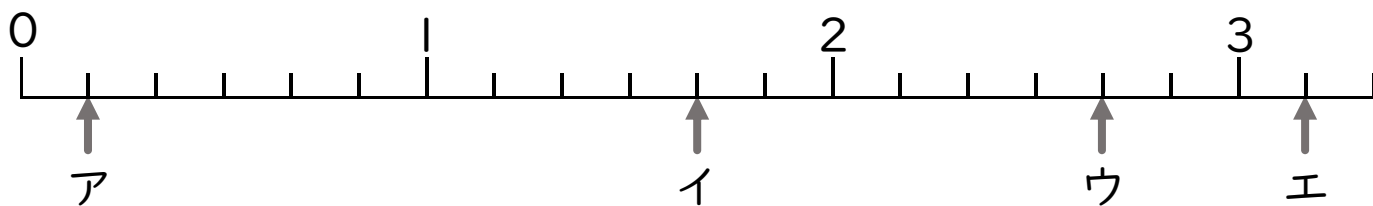
答え 仮分数…

帯分数…  $1\frac{5}{6}$  L

帯分数…

2 ア～エのめもりが表す分数はいくつですか。

1より大きい分数は、仮分数と帯分数の両方で表しましょう。



答え ア  $\frac{1}{6}$

イ  $\frac{10}{6}$  ,  $1\frac{4}{6}$

ウ

エ

