





# 分数 (分数の表し方) 2

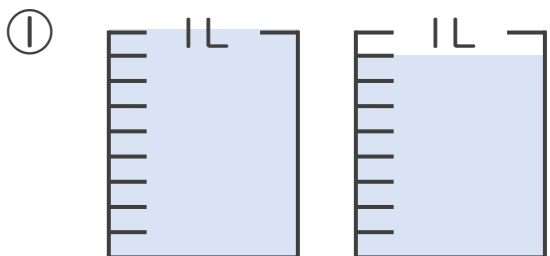
● 水のかさを帯分数と仮分数で表す



日にち：            月            日

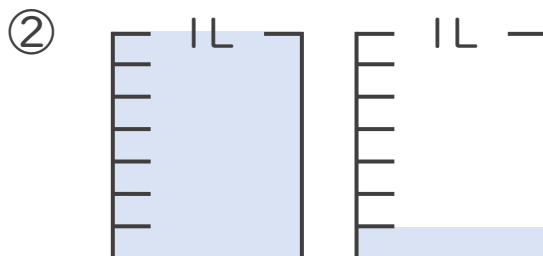
名まえ \_\_\_\_\_

1 水のかさは何Lですか。仮分数と帯分数の両方で表しましょう。



答え：仮分数…  $\frac{17}{9}$  L

帯分数…  $1\frac{8}{9}$  L



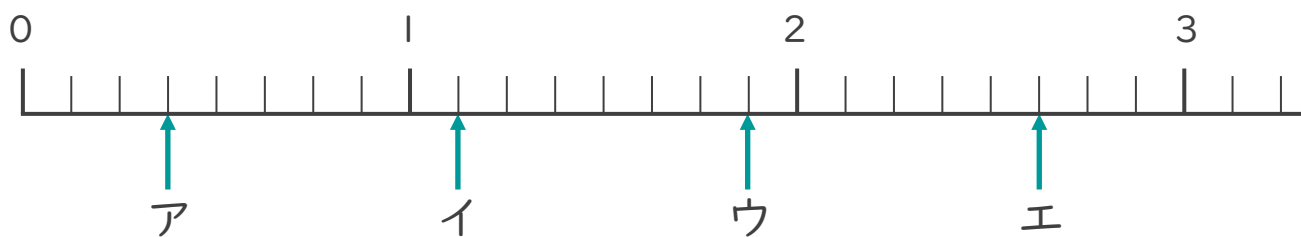
答え：仮分数…  $\frac{8}{7}$  L

帯分数…  $1\frac{1}{7}$  L

2 ア～エのめもりが表す分数はいくつですか。

1より大きい分数は、仮分数と帯分数の両方で表しましょう。

(うすい字はなぞりましょう。)



答え：ア  $\frac{3}{8}$

イ  $\frac{9}{8}$  ,  $1\frac{1}{8}$

ウ  $\frac{15}{8}$  ,  $1\frac{7}{8}$

エ  $\frac{21}{8}$  ,  $2\frac{5}{8}$

