





垂直、平行と  
四角形 18

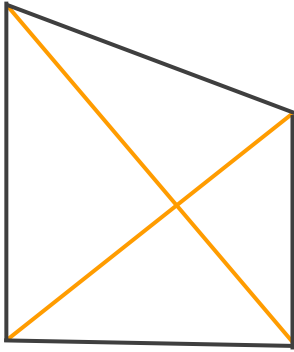
◎ 色々な四角形と対角線



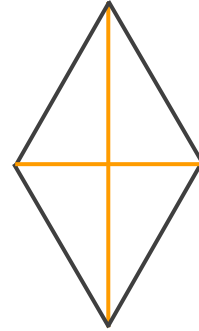
日にち：        月        日

名まえ \_\_\_\_\_


- ・ 次の四角形の名前を〔 〕に書きましょう。  
また、対角線をかきましょう。



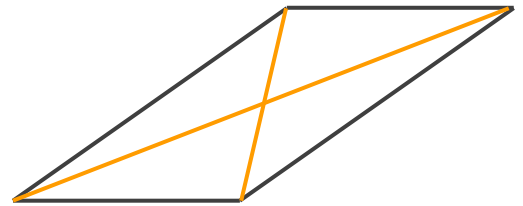
〔 台形 〕



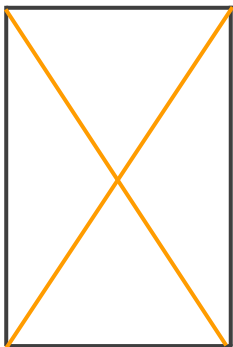
〔 ひし形 〕



〔 長方形 〕



〔 平行四辺形 〕



〔 正方形 〕