

面積の
はかり方と表し方 5

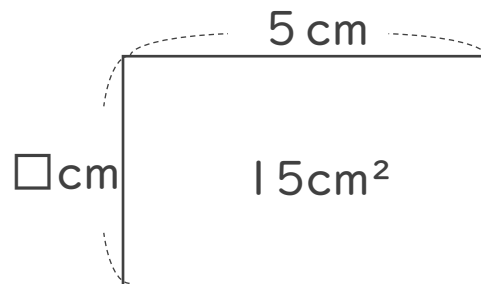
● 長方形の面積から
長さを求める



日にち： 月 日

名まえ _____

・ □の長さを求めましょう。




$$\square \times 5 = 15$$

だから、

$$15 \div 5 = \square$$

式：

答え： _____



面積の
はかり方と表し方 5

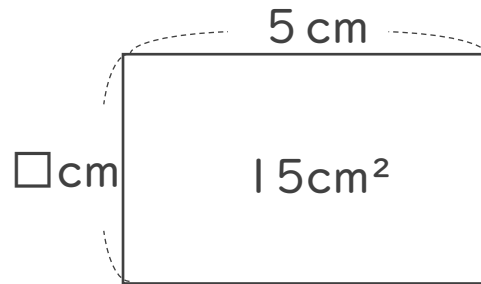
● 長方形の面積から
長さを求める



日にち： 月 日

名まえ _____

・ □の長さを求めましょう。



$$\square \times 5 = 15$$

だから、

$$15 \div 5 = \square$$

$$\text{式： } 15 \div 5 = 3$$

答え： 3 cm

