



直方体や立方体 10

● 面と面の関係
(垂直と平行)

3

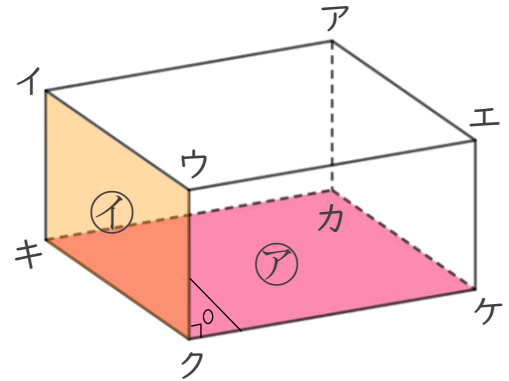
日にち： 月 日

名まえ

1 面と面の関係について調べましょう。(うすい字はなぞりましょう。)

面㊦と面㊩は垂直です。

面㊩ = 面イキクウ だよ!



☆ 面㊦と垂直な面を全部書きましょう。

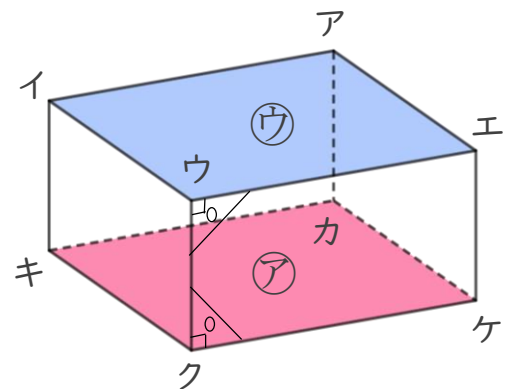
答え 面イキクウ, 面

2 面と面の関係について調べましょう。

面㊦と面㊨は平行です。

面㊦ = 面キクケカ

面㊨ = 面イウエア だよ!



☆ 面イキクウと平行な面を書きましょう。

答え



直方体や立方体 10

● 面と面の関係
(垂直と平行)

3

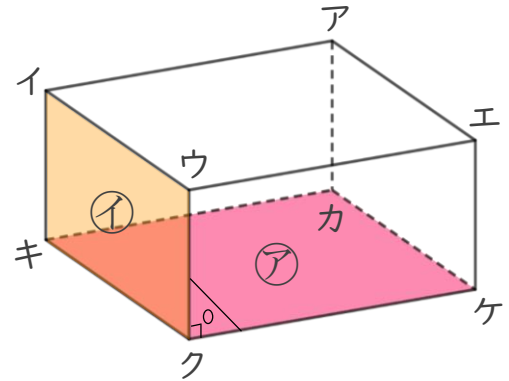
日にち： 月 日

名まえ

1 面と面の関係について調べましょう。(うすい字はなぞりましょう。)

面㊦と面㊩は垂直です。

面㊩ = 面イキクウ だよ!



☆ 面㊦と垂直な面を全部書きましょう。

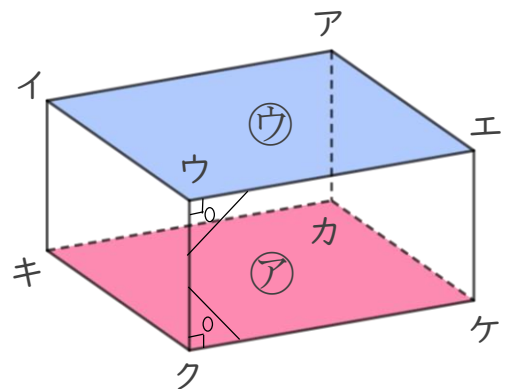
答え 面イキクウ, 面ウクケエ, 面アカケエ, 面イキカア

2 面と面の関係について調べましょう。

面㊦と面㊨は平行です。

面㊦ = 面キクケカ

面㊨ = 面イウエア だよ!



☆ 面イキクウと平行な面を書きましょう。

答え 面アカケエ