



わり算の筆算 22

◎ 2けたでわるわり算とは

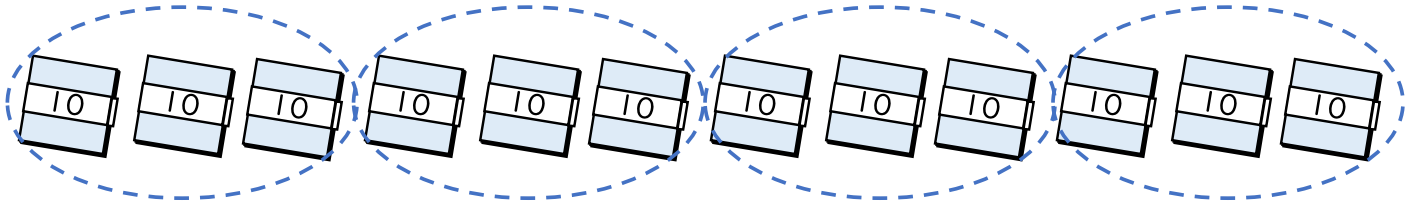


日にち： 月 日

名まえ _____

- ・ 折り紙が120まいあります。

この折り紙を1人に30まいずつ分けると、何人に分けられますか。



式: $120 \div 30 = \square$

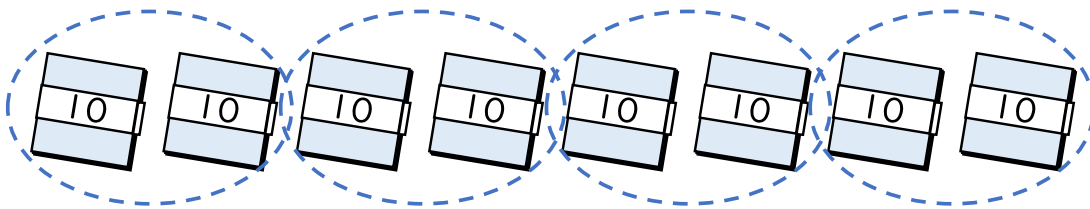
$12 \div 3 = \square$
 $120 \div 30 = \square$

等しい

答え： _____

- ・ 折り紙が80まいあります。

この折り紙を1人に20まいずつ分けると、何人に分けられますか。



式: $80 \div 20 = \square$

$8 \div 2 = \square$
 $80 \div 20 = \square$

等しい

答え： _____



わり算の筆算 22

◎ 2けたでわるわり算とは

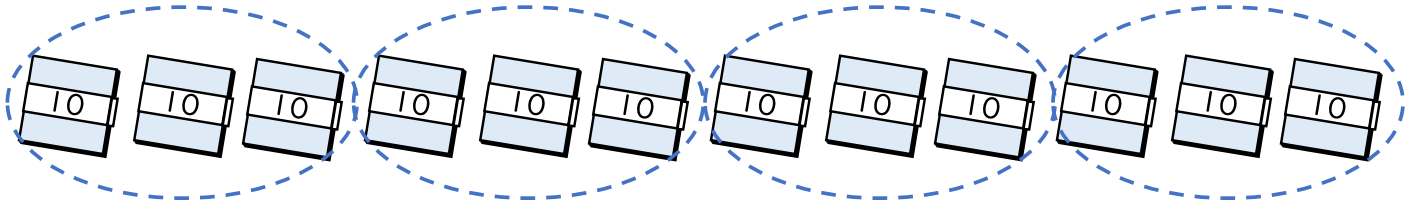


日にち： 月 日

名まえ _____

- ・ 折り紙が120まいあります。

この折り紙を1人に30まいずつ分けると、何人に分けられますか。



式: $120 \div 30 = 4$

$$12 \div 3 = ?$$

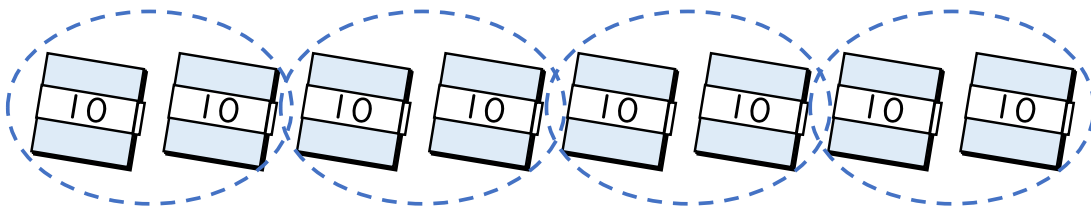
$$120 \div 30 = ?$$

等しい

答え： 4人

- ・ 折り紙が80まいあります。

この折り紙を1人に20まいずつ分けると、何人に分けられますか。



式: $80 \div 20 = 4$

$$8 \div 2 = ?$$

$$80 \div 20 = ?$$

等しい

答え： 4人