



垂直, 平行と 四角形 2

3

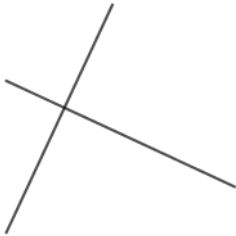
2直線と垂直

日にち： 月 日

名まえ _____

次の図で、2本の直線が垂直であるものを㉠～㉥の中から全て選びましょう。(うすい字はなぞりましょう。)

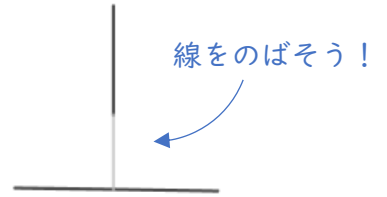
㉠



㉡



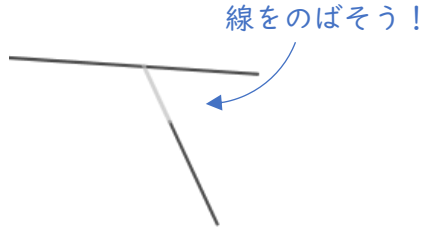
㉢



㉣

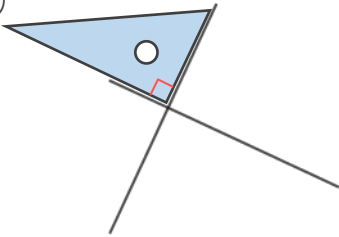


㉤

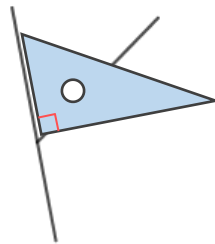


三角じょうぎの直角の部分をあててみよう!

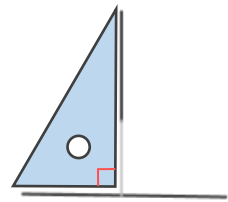
㉠



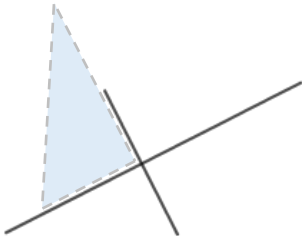
㉡



㉢



㉣



㉤



答え： ㉠, ,



垂直, 平行と 四角形 2

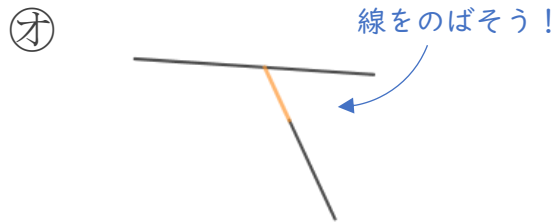
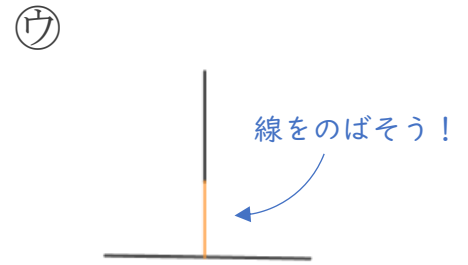
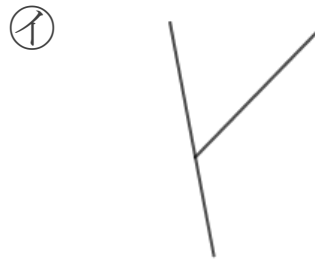
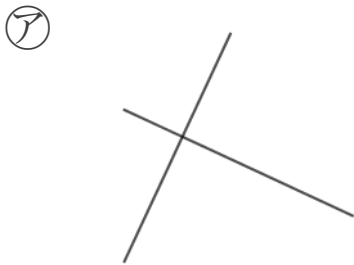
2直線と垂直



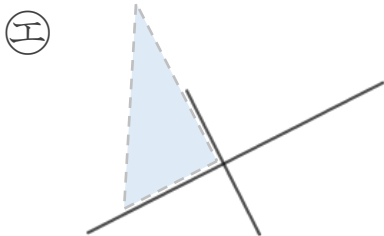
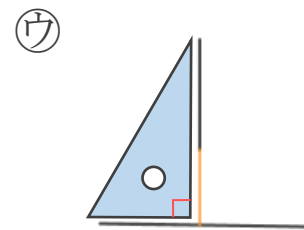
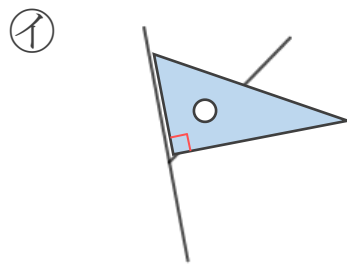
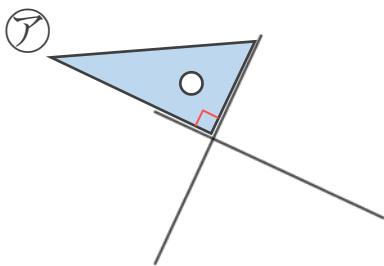
日にち： 月 日

名まえ _____

次の図で、2本の直線が垂直であるものを㉠～㉥の中から全て選びましょう。(うすい字はなぞりましょう。)



三角じょうぎの直角の部分をあててみよう!



答え： ㉠, ㉢, ㉣