



## 倍の見方 2

5m の 7 倍の長さ

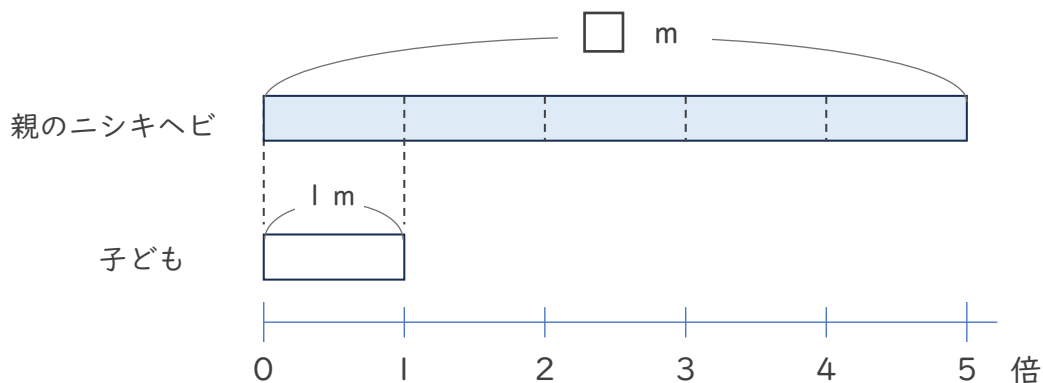
3

日にち：      月      日

名まえ \_\_\_\_\_

・ 次の問いに答えましょう。（うすい字はなぞりましょう。）

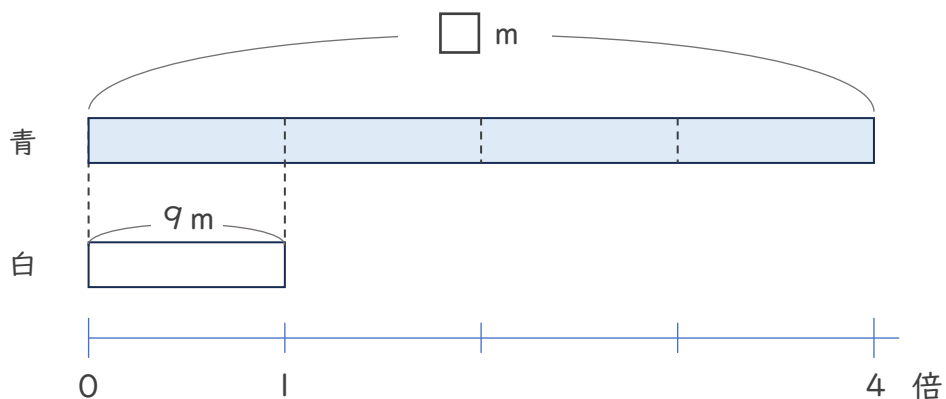
① 子どものニシキヘビの体長は 1m、親のニシキヘビの体長は、子どものニシキヘビの体長の 5 倍です。親のニシキヘビの体長は何 m ですか。



式：

答え (    )

② 白のリボンの長さは 9m で、青のリボンの長さは白の長さの 4 倍です。青のリボンの長さは何 m ですか。



式：

答え (    )



## 倍の見方 2

◎ 5m の 7 倍の長さ

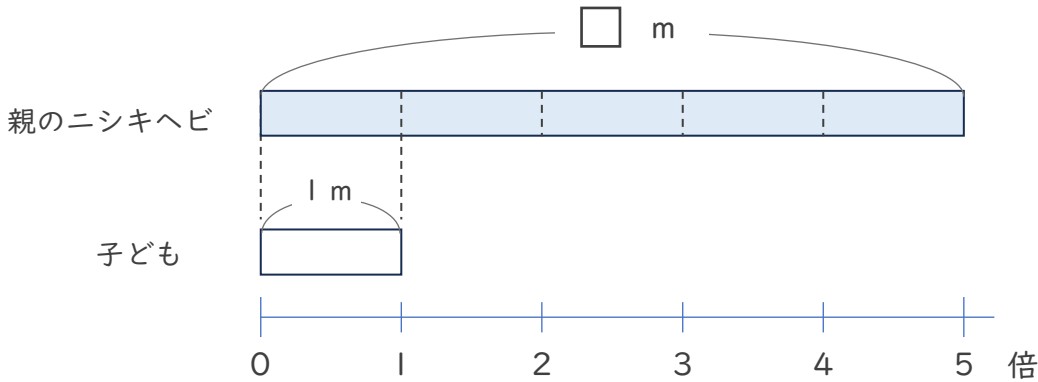


日にち：            月            日

名まえ \_\_\_\_\_

・ 次の問いに答えましょう。（うすい字はなぞりましょう。）

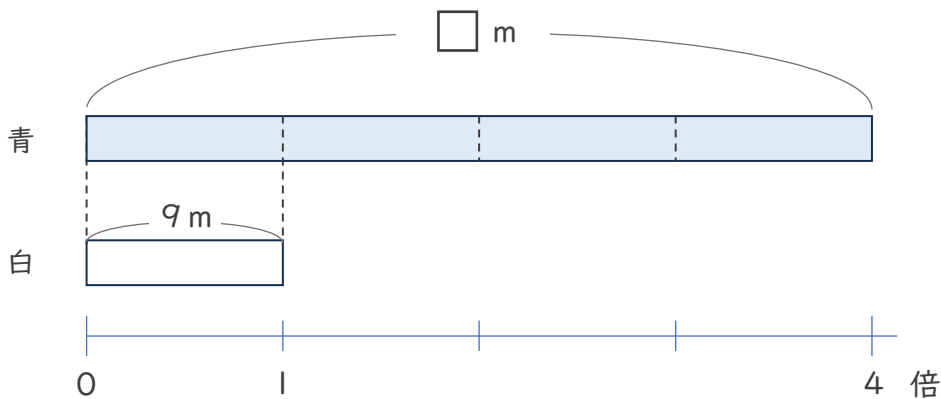
① 子どものニシキヘビの体長は 1 m、親のニシキヘビの体長は、子どものニシキヘビの体長の 5 倍です。親のニシキヘビの体重は何 m ですか。



式：  $1 \times 5 = 5$

答え（  $5 \text{ m}$  ）

② 白のリボンの長さは 9 m で、青のリボンの長さは白の長さの 4 倍です。青のリボンの長さは何 m ですか。



式：  $9 \times 4 = 36$

答え（  $36 \text{ m}$  ）

