



小数の表し方 6

㊦ cmをmで表す

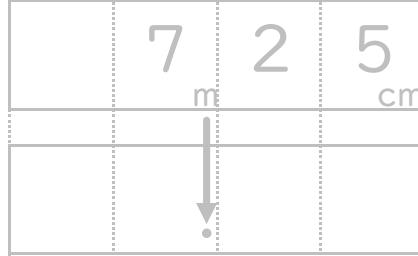


日にち： 月 日

名まえ

・ 次の長さを、小数を使ってmで表しましょう。(うすい字はなぞりましょう。)

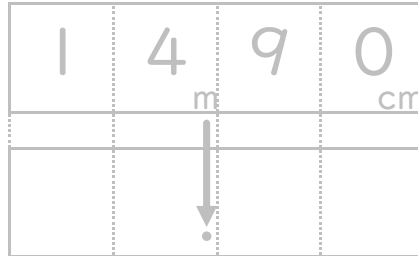
① 7 m 2 5 c m



m

答え

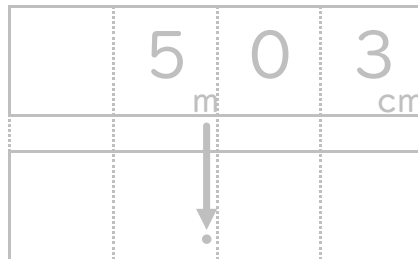
② 1 4 m 9 0 c m



m

答え

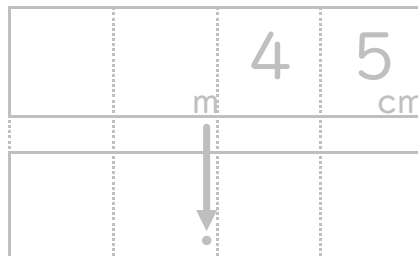
③ 5 m 3 c m



m

答え

④ 4 5 c m



m

答え





小数の表し方 6

◎ cmをmで表す

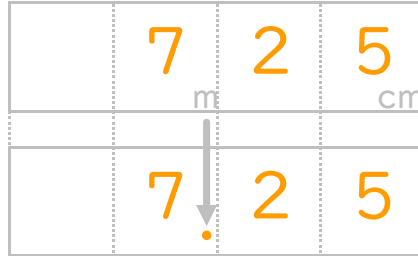


日にち： 月 日

名まえ

・ 次の長さを、小数を使ってmで表しましょう。(うすい字はなぞりましょう。)

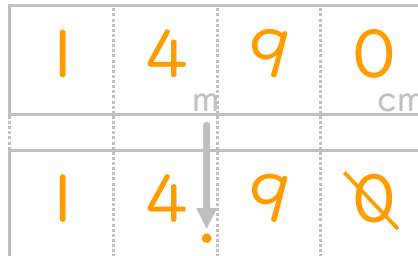
① 7 m 2 5 c m



m

答え 7.25 m

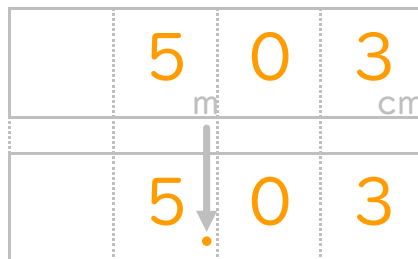
② 1 4 m 9 0 c m



m

答え 14.9 m

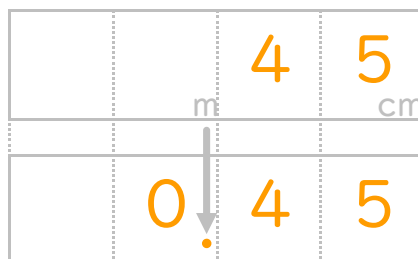
③ 5 m 3 c m



m

答え 5.03 m

④ 4 5 c m



m

答え 0.45 m

