



小数の表し方⑨

◎ mをkmで、gをkgで表す

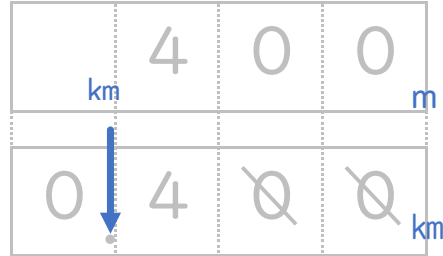


日にち： 月 日

名まえ _____

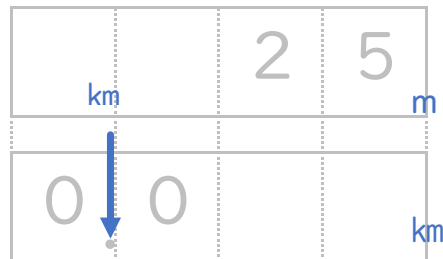
・ 次の長さを、小数を使ってkmで表しましょう。(うすい字はなぞりましょう。)

① 400 m



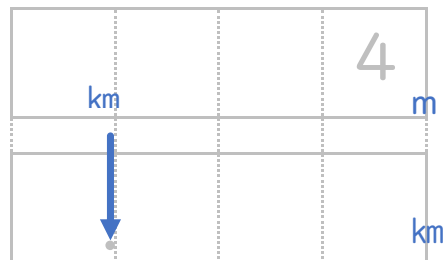
答え 0.4 km

② 25 m



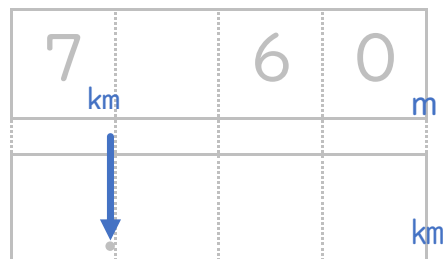
答え _____ km

③ 4 m



答え _____ km

④ 7 km 60 m



答え _____





小数の表し方⑨

◎ mをkmで、gをkgで表す

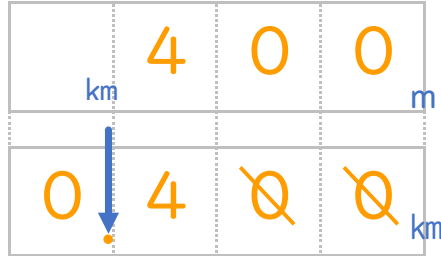


日にち： 月 日

名まえ

・ 次の長さを、小数を使ってkmで表しましょう。(うすい字はなぞりましょう。)

① 400 m



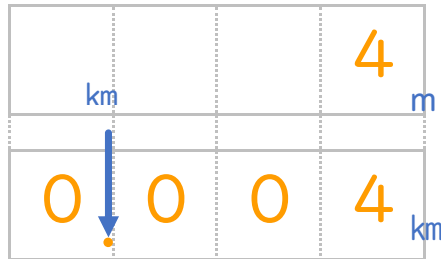
答え 0.4 km

② 25 m



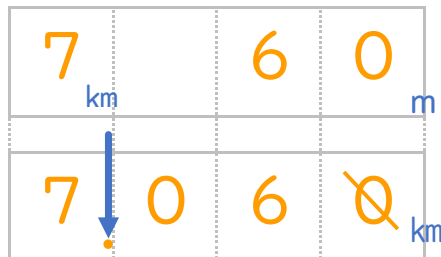
答え 0.025 km

③ 4 m



答え 0.004 km

④ 7 km 60 m



答え 7.06 km

③ 確認 答え



すらすらぷりんと