



計算のきまり5

◎ カッコの中に
四則が混じった計算



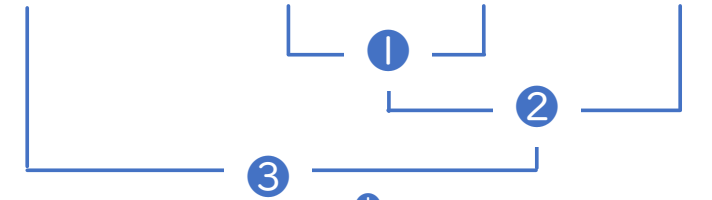
日にち： 月 日

名まえ _____

・ 計算をしましょう。(うすい字はなぞりましょう。)

<筆算スペース>

① $4 \times (4 \times 7 - 5)$



= $4 \times (\square - 5)$

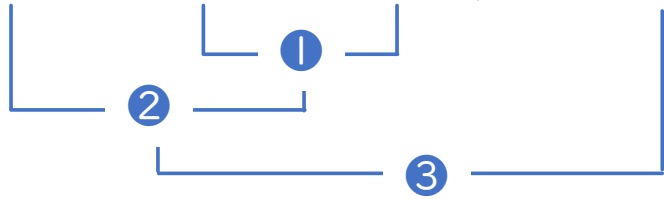
= $4 \times \square$

= \square

()の中も
×と÷を先に
計算するよ!



② $(9 + 24 \div 4) \div 3$



= $(9 + \square) \div 3$

= $\square \div 3$

= \square





計算のきまり5

◎ カッコの中に
四則が混じった計算



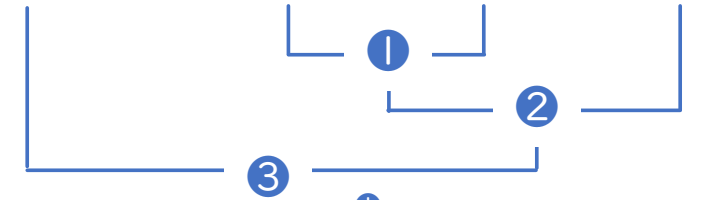
日にち： 月 日

名まえ _____

・ 計算をしましょう。(うすい字はなぞりましょう。)

<筆算スペース>

① $4 \times (4 \times 7 - 5)$



$= 4 \times (28 - 5)$

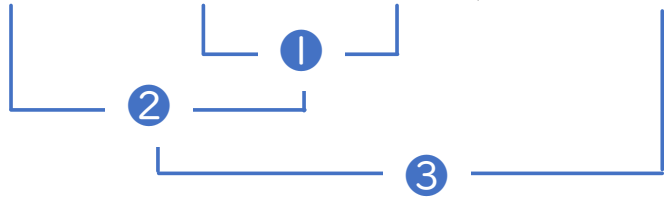
$= 4 \times 23$

$= 92$

()の中も
×と÷を先に
計算するよ!



② $(9 + 24 \div 4) \div 3$



$= (9 + 6) \div 3$

$= 15 \div 3$

$= 5$

