



がい数の
使い方と表し方！

● がい数とは

4

日にち： 月 日

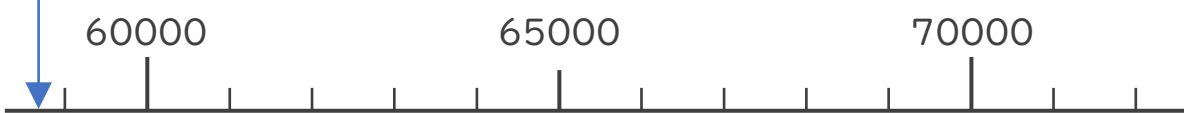
名まえ _____

・ 3つの市の人口を表にまとめました。次の問いに答えましょう。

A市	58706人
B市	62523人
C市	69002人

① A市の人口は約何万人といえますか。数直線を見て答えましょう。

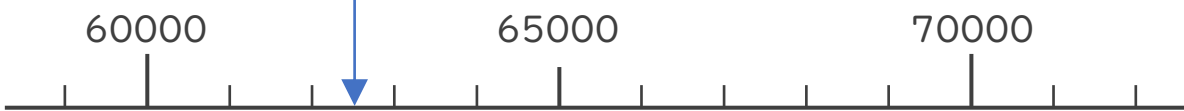
58706



答え（ ）人

② B市の人口は約何万人といえますか。数直線を見て答えましょう。


62523



答え（ ）

③ C市の人口は約何万人といえますか。数直線を見て答えましょう。

69002



答え（ ）



がい数の 使い方と表し方！

● がい数とは



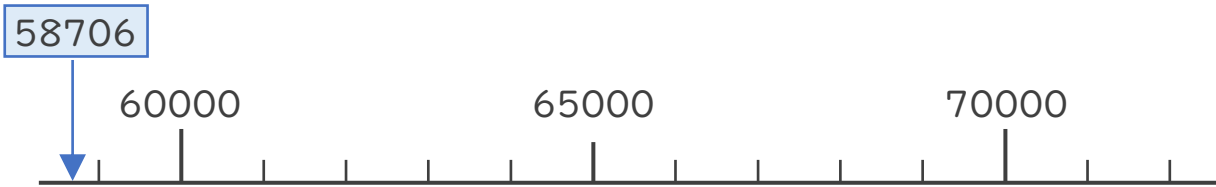
日にち： 月 日

名まえ _____

・ 3つの市の人口を表にまとめました。次の問いに答えましょう。

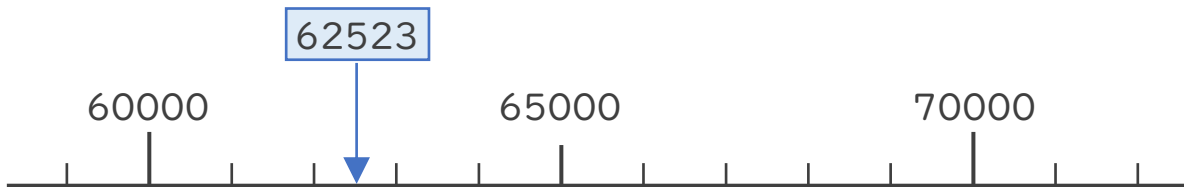
A市	58706人
B市	62523人
C市	69002人

① A市の人口は約何万人といえますか。数直線を見て答えましょう。



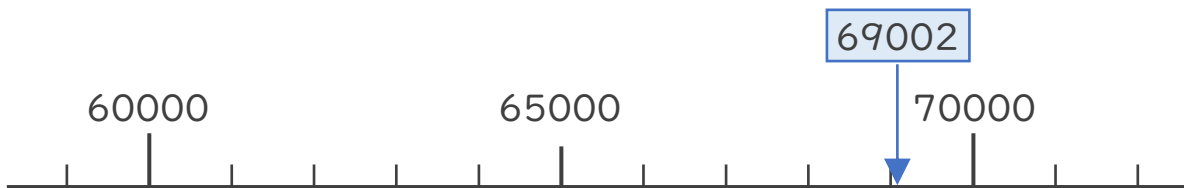
答え (**約6万**) 人
(約60000人)

② B市の人口は約何万人といえますか。数直線を見て答えましょう。



答え (**約6万人**)
(約60000人)

③ C市の人口は約何万人といえますか。数直線を見て答えましょう。



答え (**約7万人**)
(約70000人)

④ 確認 答え



すらすらぷりんと