



大きな数 3
 ● それぞれの位の数字



日にち： 月 日


名まえ _____

1 886960000000という数について、次の問いに答えましょう。

① 左から2ばんめの8は、何が8こあることを表していますか。

千	百	十	一	千	百	十	一	千	百	十	一
億				万							

この表に
数字を入れて
考えよう！



答え _____

② 一億の位の数字は何ですか。


答え _____

2 1610000000という数について、次の問いに答えましょう。

① 左から1ばんめの1は、何が1こあることを表していますか。

千	百	十	一	千	百	十	一	千	百	十	一
億				万							

この表に
数字を入れて
考えよう！



答え _____

② 千万の位の数字は何ですか。

答え _____



大きな数 3
 ● それぞれの位の数字



日にち： 月 日


名まえ _____

1 886960000000という数について、次の問いに答えましょう。

① 左から2ばんめの8は、何が8こあることを表していますか。

千	百	十	一	千	百	十	一	千	百	十	一
億				万							
8	8	6	9	6	0	0	0	0	0	0	0

この表に
数字を入れて
考えよう！



答え 百億

② 一億の位の数字は何ですか。


答え 9

2 161000000という数について、次の問いに答えましょう。

① 左から1ばんめの1は、何が1こあることを表していますか。

千	百	十	一	千	百	十	一	千	百	十	一
億				万							
			1	6	1	0	0	0	0	0	0

この表に
数字を入れて
考えよう！



答え 一億

② 千万の位の数字は何ですか。

答え 6

