



垂直, 平行と
四角形 15

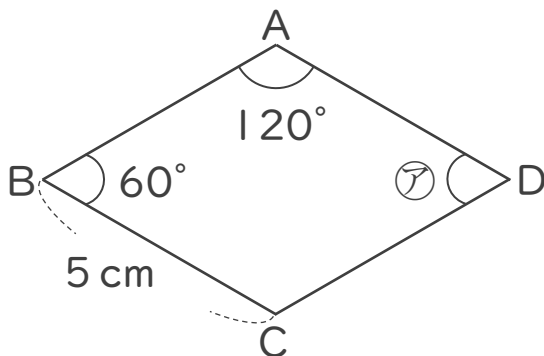
4

◎ ひし形の性質

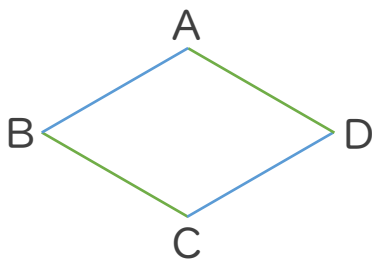
日にち： 月 日

名まえ _____

- 次の図はひし形です。次の問いに答えましょう。
(うすい字はなぞりましょう。)

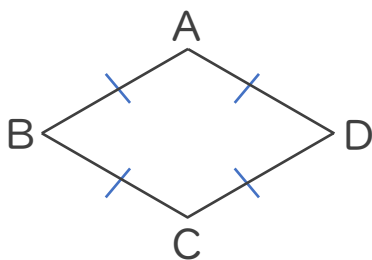


- ① 辺ABに平行な辺はどれですか。



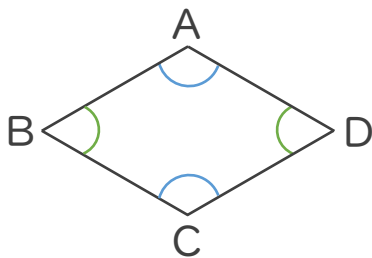
答え： 辺 _____

- ② 辺ADの長さは何cmですか。



答え： _____

- ③ アの角度は何度ですか。



答え： _____





垂直, 平行と 四角形 15

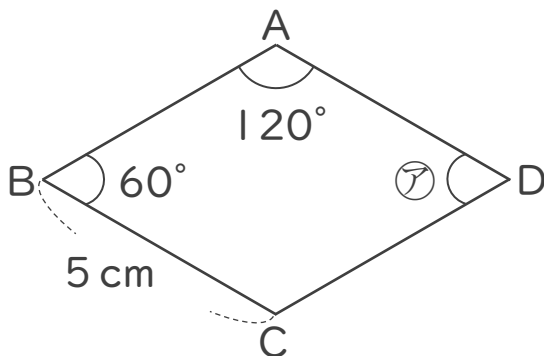
4

◎ ひし形の性質

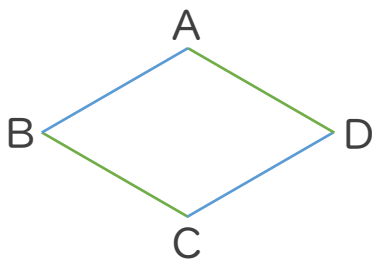
日にち： 月 日

名まえ _____

- 次の図はひし形です。次の問いに答えましょう。
(うすい字はなぞりましょう。)

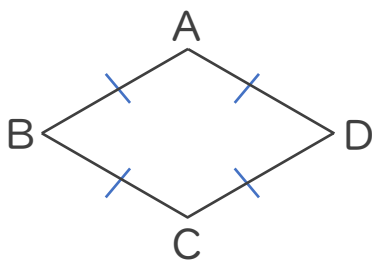


- ① 辺ABに平行な辺はどれですか。



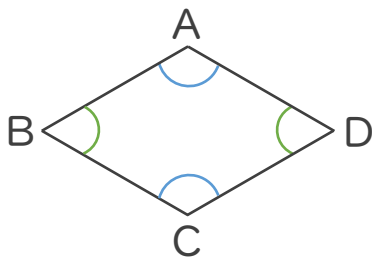
答え: **辺DC**

- ② 辺ADの長さは何cmですか。



答え: **5 cm**

- ③ ②の角度は何度ですか。



答え: **60°**

