



がい数の
使い方と表し方 12

● 以上・以下・未満と
四捨五入のはんい

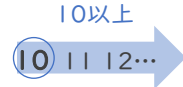


日にち： 月 日

名まえ _____

10以上

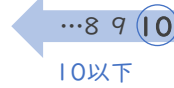
10か、10より大きい数



10も入る

10以下

10か、10より小さい数



10未満

10より小さい数



10は入らない

1 次のはんいにあてはまる整数を、下の からえらんですべて書きましょう。

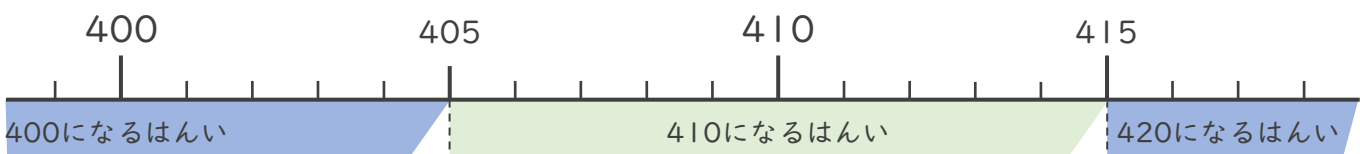
- ① 5以上9以下 ()
- ② 7以上11未満 ()

4, 5, 6, 7, 8, 9, 10, 11, 12

2 一の位で四捨五入して410になる整数のはんいを考えます。 にあてはまる数を書きましょう。

以上 以下の整数 または、

以上 未満の整数



405から414までの整数
が入ればいいんだね





がい数の 使い方と表し方 12

● 以上・以下・未満と
四捨五入のはんい

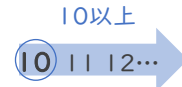


日にち： 月 日

名まえ _____

10以上

10か、10より大きい数



10以下

10か、10より小さい数



10未満

10より小さい数



10も入る

10は入らない

1 次のはんいにあてはまる整数を、下の からえらんですべて書きましょう。

① 5以上9以下 (5, 6, 7, 8, 9)

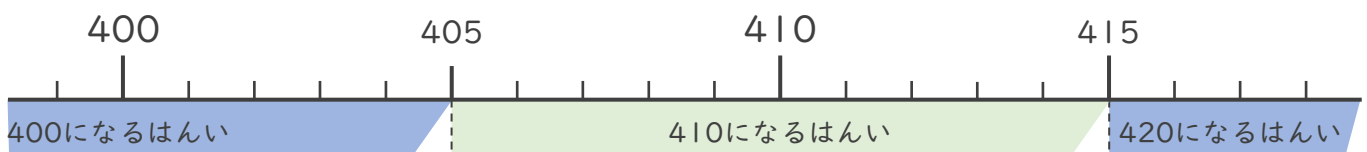
② 7以上11未満 (7, 8, 9, 10)

4, 5, 6, 7, 8, 9, 10, 11, 12

2 一の位で四捨五入して410になる整数のはんいを考えます。 にあてはまる数を書きましょう。

405 以上 414 以下の整数 または、

405 以上 415 未満の整数



405から414までの整数
が入ればいいんだね

