



分数 9

分数どうしのたし算・ひき算

4

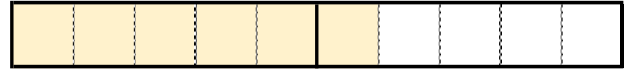
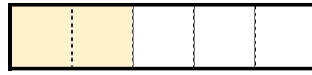
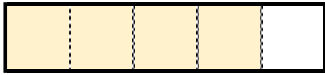
日にち： 月 日

名まえ _____

1 $\frac{4}{5}$ mと $\frac{2}{5}$ mのリボンがあります。

あわせると、何mになるでしょうか。

① $\frac{4}{5}$, $\frac{2}{5}$ は、それぞれ $\frac{1}{5}$ の何こ分ですか。



$\frac{1}{5}$ の こ分

$\frac{1}{5}$ の こ分

$\frac{1}{5}$ の こ分

② $\frac{4}{5} + \frac{2}{5} =$

答え： _____

2 次の計算をしましょう。(うすい字はなぞりましょう。)

① $\frac{5}{6} + \frac{2}{6} = \frac{7}{6}$

② $\frac{2}{3} + \frac{6}{3} =$

③ $\frac{6}{7} - \frac{2}{7} = \frac{4}{7}$

④ $\frac{8}{5} - \frac{6}{5} =$





分数 9

分数どうしのたし算・ひき算

4

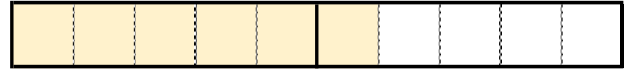
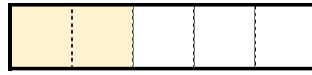
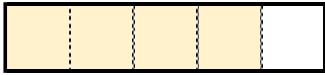
日にち： 月 日

名まえ _____

1 $\frac{4}{5}$ mと $\frac{2}{5}$ mのリボンがあります。

あわせると、何mになるでしょうか。

① $\frac{4}{5}$, $\frac{2}{5}$ は、それぞれ $\frac{1}{5}$ の何こ分ですか。



$\frac{1}{5}$ の **4** こ分

$\frac{1}{5}$ の **2** こ分

$\frac{1}{5}$ の **6** こ分

② $\frac{4}{5} + \frac{2}{5} = \frac{6}{5}$ 答え： $\frac{6}{5}$ m

2 次の計算をしましょう。(うすい字はなぞりましょう。)

① $\frac{5}{6} + \frac{2}{6} = \frac{7}{6}$

② $\frac{2}{3} + \frac{6}{3} = \frac{8}{3}$

③ $\frac{6}{7} - \frac{2}{7} = \frac{4}{7}$

④ $\frac{8}{5} - \frac{6}{5} = \frac{2}{5}$

