



# 分数 8

分母で大きさをくらべ

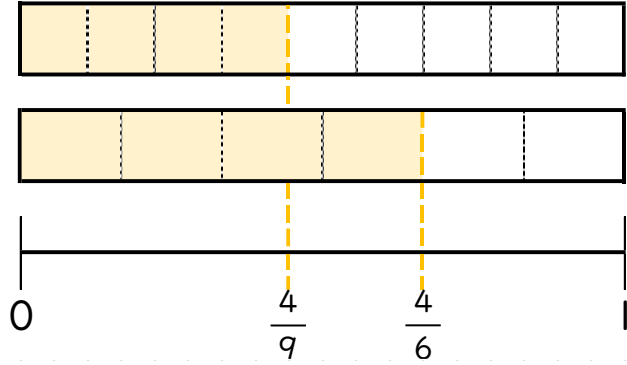


日にち：      月      日

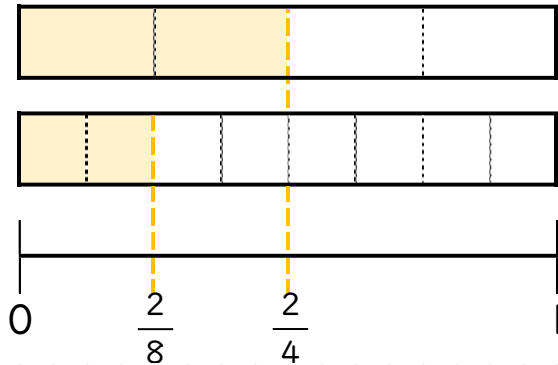
名まえ \_\_\_\_\_

・ 図を見て、 にあてはまる不等号を書きましょう。

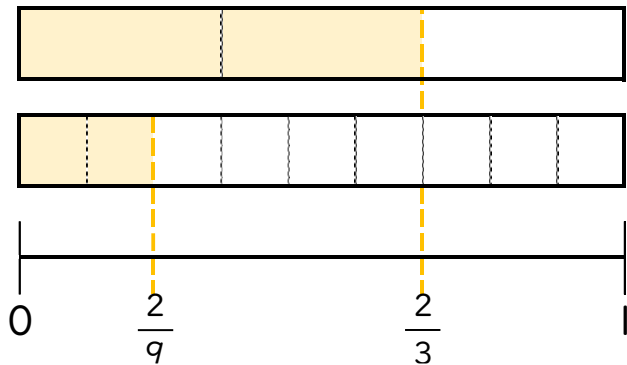
①  $\frac{4}{6}$    $\frac{4}{9}$



②  $\frac{2}{8}$    $\frac{2}{4}$



③  $\frac{2}{3}$    $\frac{2}{9}$





# 分数 8

分母で大きさをくらべ

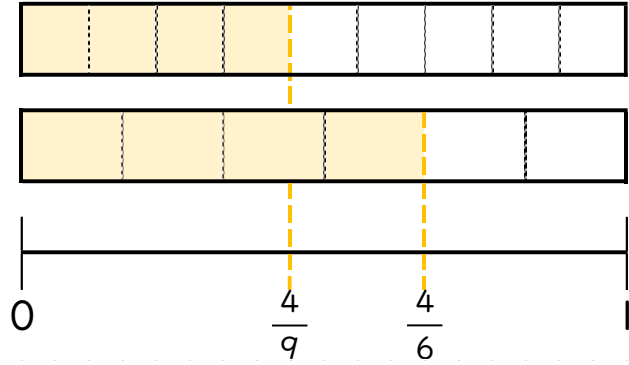


日にち：      月      日

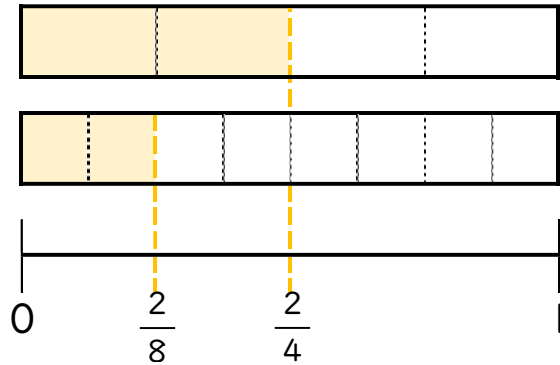
名まえ \_\_\_\_\_

・ 図を見て、 にあてはまる不等号を書きましょう。

①  $\frac{4}{6}$    $\frac{4}{9}$



②  $\frac{2}{8}$    $\frac{2}{4}$



③  $\frac{2}{3}$    $\frac{2}{9}$

