



垂直, 平行と
四角形 12

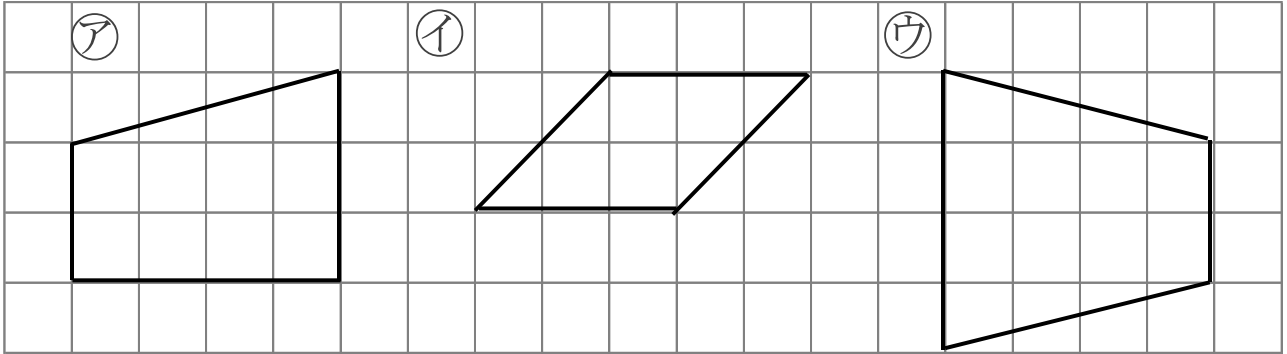
4

● 台形と平行四辺形

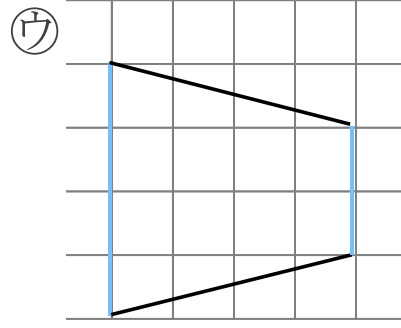
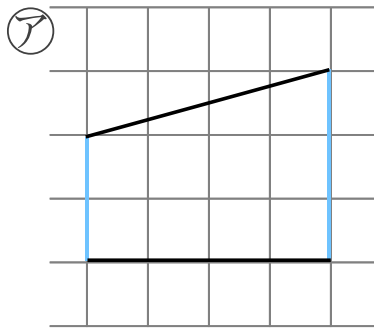
日にち: 月 日

名まえ _____

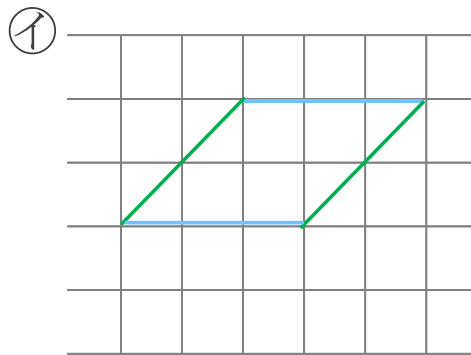
・ 次の四角形を、台形と平行四辺形に分けましょう。(うすい字はなぞろう。)



台形は、平行な辺が | 組



平行四辺形は、平行な辺が 2 組



答え 台形 ...

平行四辺形...



垂直, 平行と
四角形 12

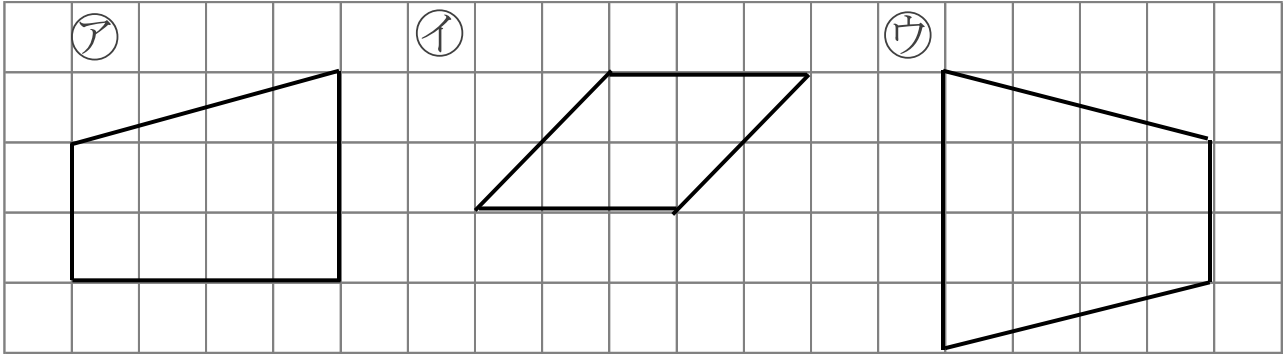
4

● 台形と平行四辺形

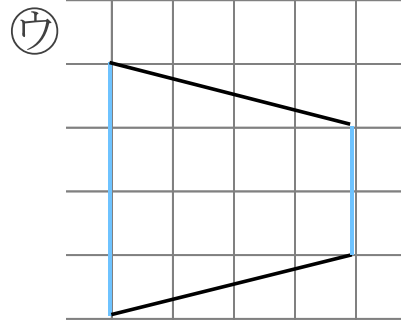
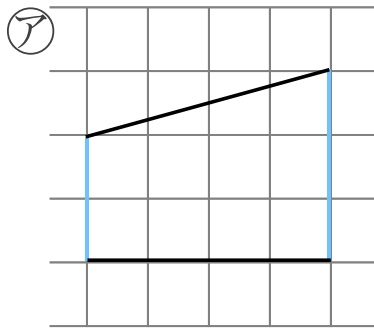
日にち: 月 日

名まえ _____

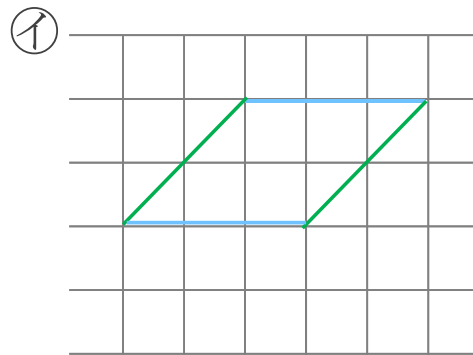
・ 次の四角形を、台形と平行四辺形に分けましょう。(うすい字はなぞろう。)



台形は、平行な辺が | 組



平行四辺形は、平行な辺が 2 組



答え 台形 ... ア, ウ

平行四辺形... イ