



がい数の
使い方と表し方 4 4

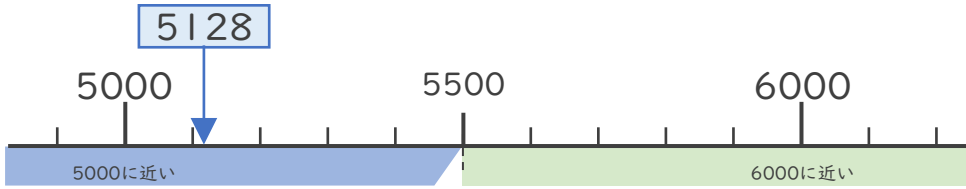
◎ 四捨五入とは

日にち： 月 日

名まえ _____

・次の問いに答えましょう。

① 5128は5000と6000のどちらに近いですか。



答え ()

・①のように、ある数^{かず}をがい数^{すう}で表したいときは四捨五入^{ししゃごにゆう}をして表すことができます。

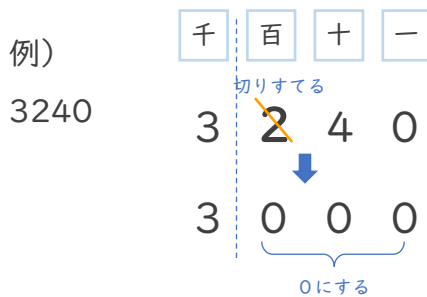
<四捨五入のやりかた>

・千の位までのがい数で表すときは、1つ前の百の位^{ししゃごにゆう}を四捨五入します。

百の位の数^{かた}が、

0, 1, 2, 3, 4

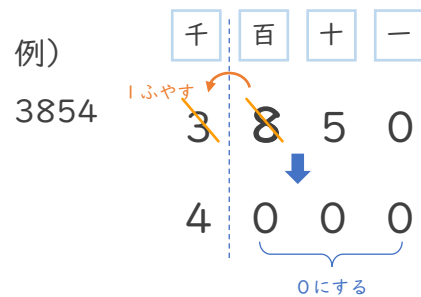
→ 切りすてる



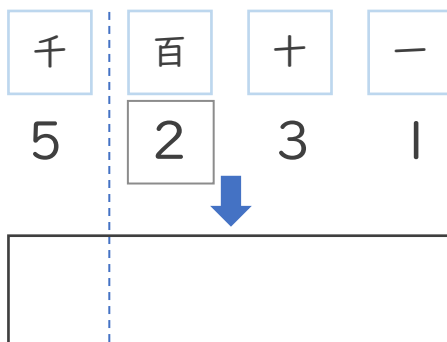
百の位の数^{かた}が、

5, 6, 7, 8, 9

→ 切り上げる



② 5231を百の位で四捨五入して、千の位までのがい数で表しましょう。





がい数の 使い方と表し方 4

● 四捨五入とは

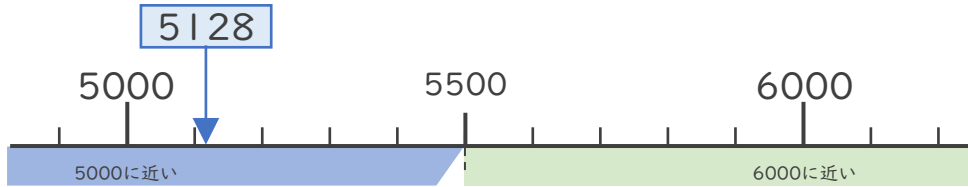


日にち： 月 日

名まえ _____

・ 次の問いに答えましょう。

① 5128は5000と6000のどちらに近いですか。



答え (5000)

・ ①のように、ある数をがい数で表したいときは四捨五入をして表すことができます。

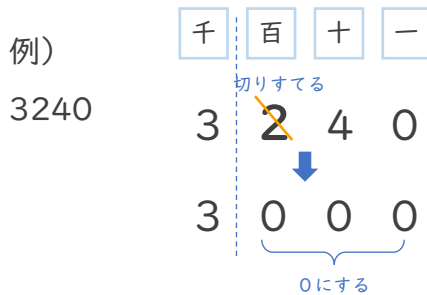
<四捨五入のやりかた>

・ 千の位までのがい数で表すときは、1つ前の百の位を四捨五入します。

百の位の数か、

0, 1, 2, 3, 4

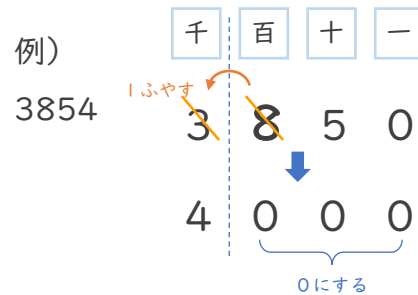
→ 切りすてる



百の位の数か、

5, 6, 7, 8, 9

→ 切り上げる



② 5231を百の位で四捨五入して、千の位までのがい数で表しましょう。

