



垂直、平行と 四角形5

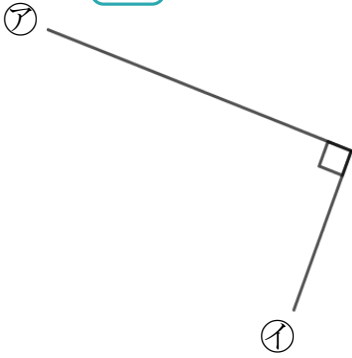
● 垂直な線を探す
(ヒントの点あり)



日にち： 月 日

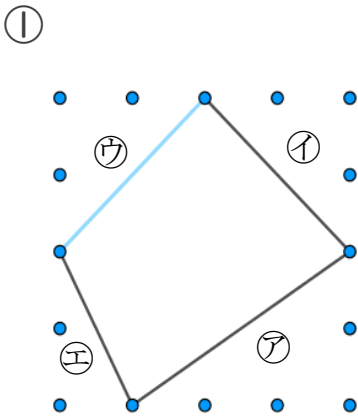
名まえ _____

1 次の に当てはまる言葉を答えましょう

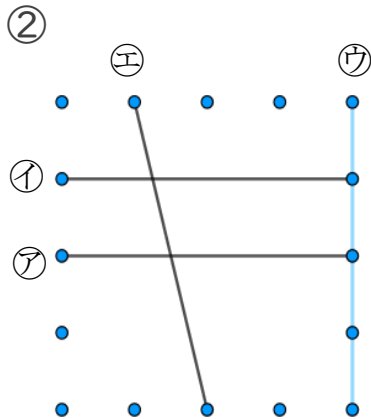


アとイの直線の並び方は です。

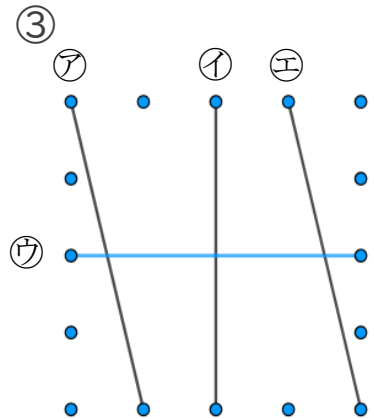
2 次の図で、ウの直線に垂直な直線はどれですか



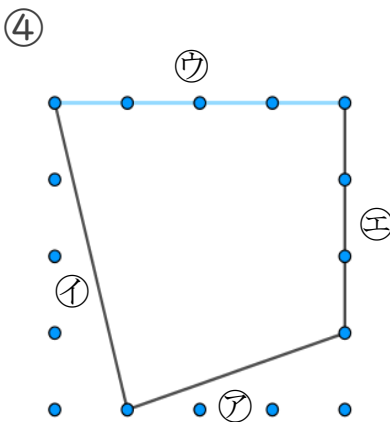
答え： _____



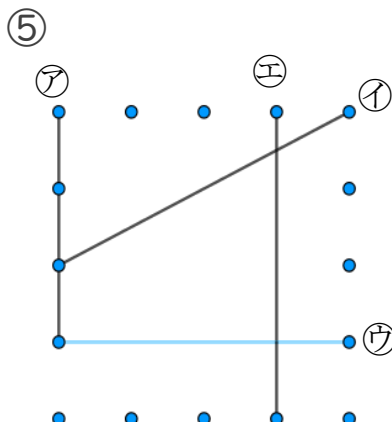
答え： _____



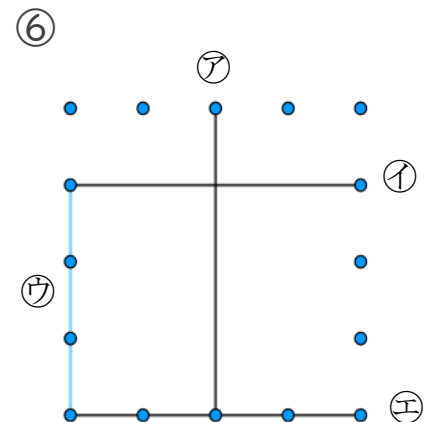
答え： _____



答え： _____



答え： _____



答え： _____



垂直、平行と 四角形5

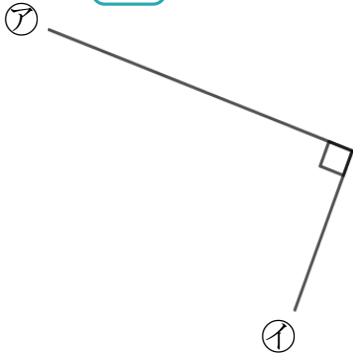
◎ 垂直な線を探す
(ヒントの点あり)

4

日にち： 月 日

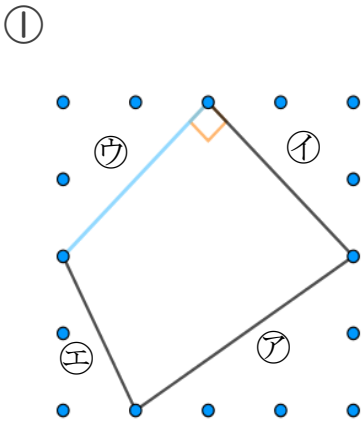
名まえ _____

1 次の に当てはまる言葉を答えましょう

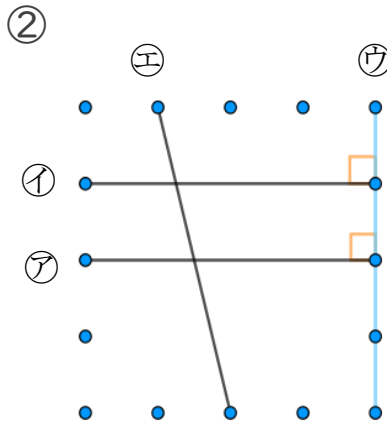


アとイの直線の並び方は **垂直** です。

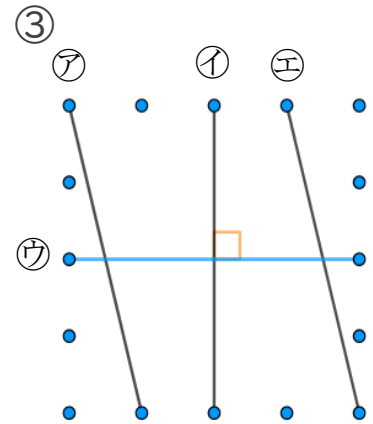
2 次の図で、ウの直線に垂直な直線はどれですか



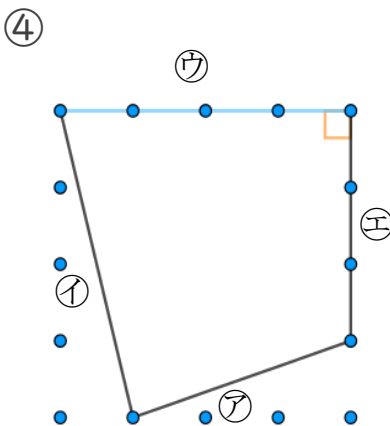
答え： イ



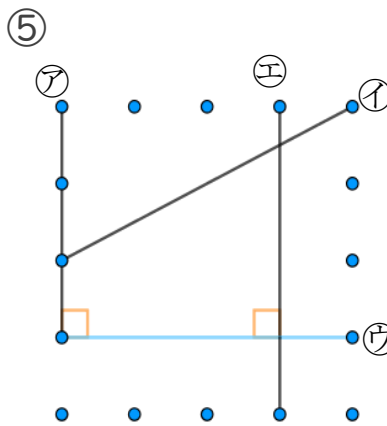
答え： ア, イ



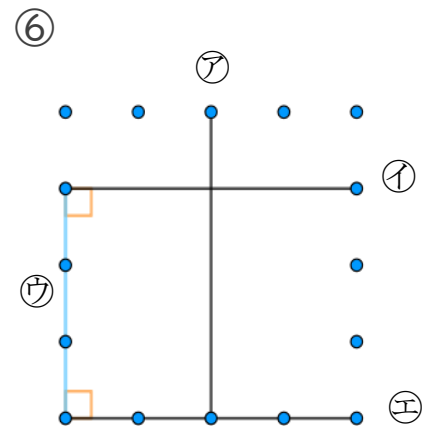
答え： イ



答え： エ



答え： ア, エ



答え： イ, エ

