



分数 (分数の表し方) 6

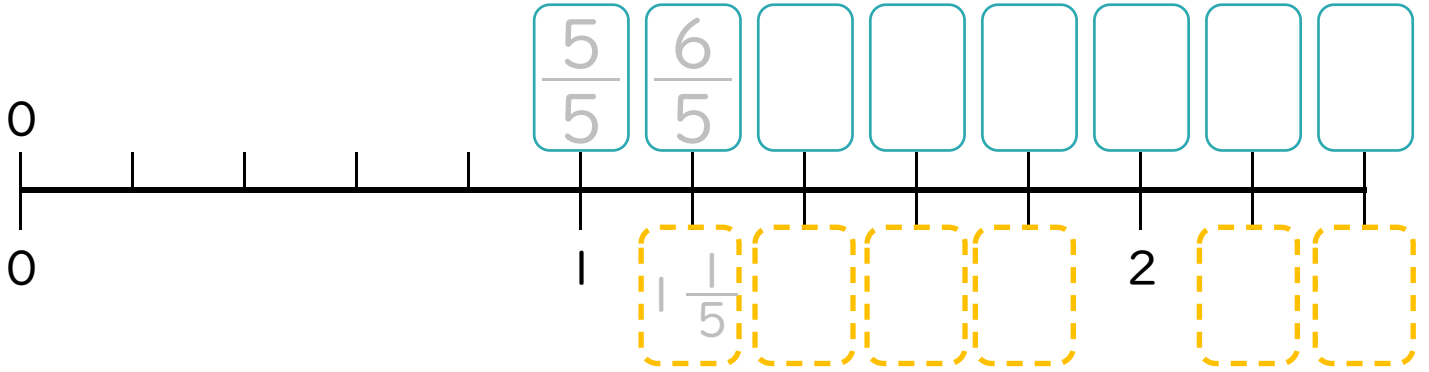
◎ 帯分数を仮分数になおす



日にち： 月 日

名まえ _____

1 次の問いに答えましょう。(うすい字はしっかりなぞりましょう。)



① にあてはまる**仮分数**を書きましょう。

② にあてはまる**帯分数**を書きましょう。

2 次の問いに答えましょう。(うすい字はなぞろう。)


① $2\frac{2}{5}$ の整数部分の2は $\frac{1}{5}$ の何個分ですか。

$$2 = \frac{10}{5}$$

答え： 10 個分

② $2\frac{2}{5}$ を仮分数に直しましょう。

$$2\frac{2}{5} = \frac{2 \times 5 + 2}{5} =$$



分数 (分数の表し方) 6

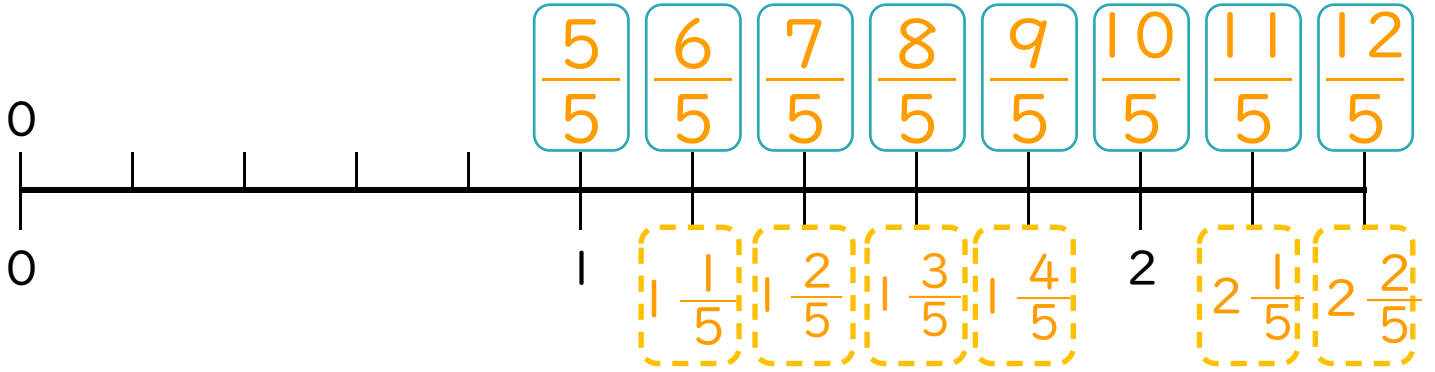
◎ 帯分数を仮分数になおす



日にち： 月 日

名まえ

1 次の問いに答えましょう。(うすい字はしっかりなぞりましょう。)



① にあてはまる**仮分数**を書きましょう。

② にあてはまる**帯分数**を書きましょう。

2 次の問いに答えましょう。(うすい字はなぞろう。)

① $2\frac{2}{5}$ の整数部分の2は $\frac{1}{5}$ の何個分ですか。

$$2 = \frac{10}{5}$$

答え： 10 個分

② $2\frac{2}{5}$ を仮分数に直しましょう。

$$2\frac{2}{5} = \frac{2 \times 5 + 2}{5} = \frac{10 + 2}{5} = \frac{12}{5}$$